

SIMULADO GRÁTIS

CORPO DE BOMBEIROS MILITAR DA BAHIA
Soldado



PROVA OBJETIVA

Língua Portuguesa

01. As palavras abaixo são acentuadas em consonância a uma mesma regra de acentuação gráfica, com EXCEÇÃO do vocábulo:

Alternativas

- A “entendê-la”.
- B “através”.
- C “também”.
- D “herói”.
- E “Quiçá”.

02. A nova ortografia recomenda como correta a seguinte palavra:

- A anti-reforma.
- B contra-argumento.
- C para-quedas.
- D ultra-secreto;
- E cara-a-cara.

03. “No passado, podia-se modificar apenas o papel de parede”. Assinale a opção CORRETA quanto à nova pontuação, sem alteração de sentido.

- A Podia-se modificar? No passado apenas o papel de parede.
- B Apenas o papel, de parede, podia-se modificar, no passado.
- C Apenas o papel, de parede, podia-se modificar no passado.
- D Podia-se modificar, apenas o papel de parede, no passado.
- E Podia-se modificar apenas o papel de parede no passado.

04. Assinale a alternativa que respeita as regras de concordância verbal.

- A Os Sertões é uma ótima obra literária
- B Deu cinco horas da manhã
- C Meu óculos sumiu no carro
- D Choveu multas de trânsito aquele dia
- E São proibidas saídas

05. De acordo com a norma-padrão da Língua Portuguesa, o uso do acento grave indicativo da crase é obrigatório na palavra destacada em:

- A Ela foi a gaveta pegar o revólver.
- B Maria José ensinou-me a amar a literatura.

- C Sempre passeávamos a pé no final da tarde.
- D Aprendi a ter fé a partir da convivência com Maria José.
- E A caridade a qual praticava era uma marca de sua personalidade.

Texto I (Questões 06 a 10)

O sofrimento dos brasileiros com os planos de saúde

"Pouca saúde e muita saúva os males do Brasil são". Uma das frases mais famosas da literatura brasileira contida no livro Macunaíma, de Mário de Andrade, serve como ponto de reflexão sobre um dos temas problemáticos do país, a saúde de seus cidadãos. Desta vez, o que chama atenção e é motivo de preocupação de mais de oito milhões de pessoas é a decisão do Superior Tribunal de Justiça (STJ), alterando o rol de cobertura obrigatória das operadoras de saúde. A Corte resolveu que, a partir de agora, a lista que cobre financeiramente procedimentos cirúrgicos, terapias, medicamentos, entre outras atividades ao segurado enfermo é taxativa. Ou seja, os planos de saúde, que antes eram obrigados pela Justiça a pagar a conta em caso de haver a necessidade de o consumidor ter de passar por novos procedimentos, ficam respaldados a negar tratamentos e remédios. Segundo a deliberação, as empresas não precisam mais arcar com os custos de quaisquer tratamentos fora do rol oficial da Agência Nacional de Saúde Suplementar (ANS), mesmo que haja sentenças nesse sentido.

Na verdade, o que fez o STJ foi jogar um banho de água fria sobre os consumidores, já que o próprio Poder Judiciário havia reconhecido, por meio de diversas decisões, que o rol se tratava de algo exemplificativo, que, dependendo da situação, deveria incluir outros procedimentos. Em resumo, os 3.300 procedimentos, que já constam na lista como despesas obrigatórias para os convênios, tornam-se uma camisa de força para quem precisa de alguma nova terapia com rapidez. Pessoas que estão em tratamento podem ter suas terapias sumariamente interrompidas. Dinâmica como é a área da medicina, inovações surgem de forma constante. "A decisão é ruim. Agora, as pessoas terão que pagar por fora por tratamentos inovadores", diz Renata Abalém, especialista em direito do consumidor e integrante da Comissão de Direito do Consumidor da OAB-SP. Ela tem razão. "Atualmente, há adultos diagnosticados com autismo, e com isso, surgem necessidades diferentes", diz.

06. Atualmente, há adultos diagnosticados com autismo. Assinale a opção CORRETA.

- A 'Atualmente, há' é o predicado da oração.
- B Toda frase é predicado, haja visto que o verbo é impessoal.
- C O sujeito da oração é 'adultos diagnosticados com autismo'.
- D O núcleo do sujeito é o vocábulo 'adultos'.
- E O núcleo do predicado é 'autismo'.

07. A Corte resolveu que, a partir de agora, a lista que cobre financeiramente procedimentos cirúrgicos, terapias, medicamentos, entre outras atividades ao segurado enfermo é taxativa. Assinale a opção que contenha um adjetivo e um substantivo, respectivamente.

- A Atividades ao segurado.
- B Financeiramente procedimentos.
- C Cirúrgicos, terapias.
- D Segurado enfermo.
- E Enfermo é taxativa.

08. Na verdade, o que fez o STJ foi jogar um banho de água fria sobre os consumidores. Assinale a opção CORRETA cuja nova pontuação não altere o sentido da frase.

- A O que fez o STJ: foi jogar um banho de verdade na água fria sobre os consumidores.
- B O que fez o STJ foi jogar um banho de água fria na verdade sobre os consumidores.
- C O que fez o STJ? Na verdade foi jogar um banho de água fria sobre os consumidores.
- D O que fez o STJ? Foi jogar um banho de água fria na verdade sobre os consumidores.
- E O que fez o STJ, na verdade, foi jogar um banho de água fria sobre os consumidores.

09. Pouca saúde e muita saúva os males do Brasil são". Uma das frases mais famosas da literatura brasileira contida no livro Macunaíma, de Mário de Andrade. Assinale a opção CORRETA:

- A Há dois vocábulos acentuados pela regra do hiato e um vocábulo proparoxítono.
- B 'Mário' é acentuado por ser um vocábulo proparoxítono e sílaba tônica em 'Má'.
- C Um monossílabo tônico recebe acento por sua terminação em 'o'.
- D Há três vocábulos acentuados pela mesma regra de acentuação do hiato.
- E 'Macunaíma' é termo acentuado por ser um proparoxítono e sílaba tônica em 'í'.

10. Assinale a opção CORRETA.

- A A ANS abriu sentença contra o STJ em prol de mais de oito milhões de pessoas dependentes de convênios, na defesa de respaldar os clientes, autorizando o uso de novos medicamentos e procedimentos.
- B O STJ restringiu a lista de procedimentos, de forma que esta tornou-se fixa como despesas obrigatórias para os convênios; logo, os mesmos podem negar tratamentos e medicamentos que não constem no rol da mesma.
- C A ANS, junto com o STJ, determinou que outros novos procedimentos não poderão ser acrescentados aos planos de saúde, sendo uma obrigação do Sistema Único de Saúde, recebendo este mais 3.300 novos procedimentos.
- D A área da medicina, por ser muito dinâmica, aumenta a demanda dos planos de saúde que, para não aumentar as mensalidades, analisam situações que não necessitam de tratamentos especiais.
- E O STJ restringiu o uso de novos procedimentos, tratamentos e remédios, além dos que já existem, em mais 3.300 especialidades, mas o aumento não é suficiente para todas as novas demandas.

Matemática

11. Considerando-se que o primeiro termo de certa progressão aritmética é igual a 4 e seu sétimo termo é igual a 40, assinalar a alternativa que apresenta o valor da soma dos sete primeiros termos dessa progressão:

- A 148
- B 152
- C 154
- D 158
- E 159

12. Um grupo formado por 2 homens e 3 mulheres formará uma fila. Essa fila deverá começar por um homem ou terminar por um homem. O número de filas distintas possíveis é:

- A 36.
- B 48.
- C 84.
- D 96.
- E 120.

13. Você comprou 6 rifas de um sorteio com 200 números. Será sorteado apenas 1 número. Qual é a sua chance de ser sorteado?

- A 0%
- B 1%
- C 2%
- D 3%
- E 10%

14. Considerando-se o sistema linear abaixo, assinalar a alternativa que apresenta os valores de x e y que satisfazem o sistema:

$$\begin{cases} 2x + 3y = -1 \\ x - 2y = 10 \end{cases}$$

- A $x = 4$ e $y = -3$
- B $x = -4$ e $y = -3$
- C $x = -4$ e $y = 3$
- D $x = 4$ e $y = 3$
- E $x = 5$ e $y = -6$

15. Um laboratório possui dois recipientes de vidro. O primeiro recipiente tem a forma de uma esfera cujo raio mede R metros, e o segundo tem a forma de um cone, cujo raio da base e cuja altura medem R metros. A razão entre a medida do volume do recipiente esférico e a medida do volume do recipiente cônico, ambas dadas em metros cúbicos, é

- A 2
- B 3
- C 4
- D 6
- E 8

16. Uma caixa de papelão, na forma de um prisma reto de base retangular, tem suas medidas indicadas na figura.

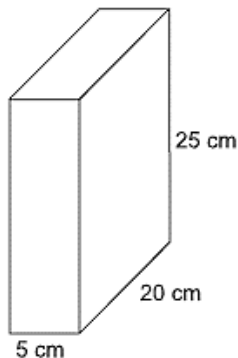
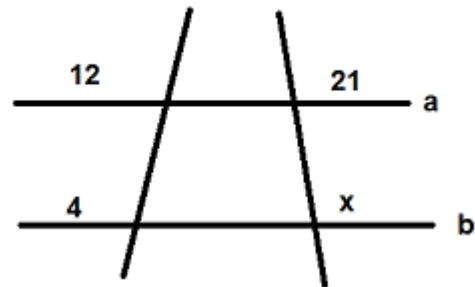


Figura fora de escala

Essa caixa está com $\frac{3}{5}$ de sua capacidade total preenchida com sabão em pó. Se todo esse sabão for dividido em porções de 125 cm^3 cada uma, o número de porções obtidas será

- A 8.
- B 12.
- C 15.
- D 18.
- E 20.

17. Sabendo que a e b são retas paralelas, determine o valor de x no seguimento abaixo.

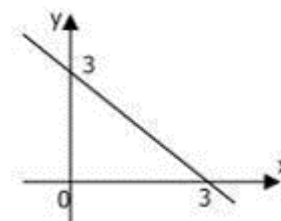


- A 6.
- B 7.
- C 8.
- D 9.
- E 10.

18. Assinale a alternativa que não contém um valor positivo:

- A $\tan(45^\circ)$
- B $\sin(135^\circ)$
- C $\cos(290^\circ)$
- D $\sin(30^\circ)$
- E $\cos(180^\circ)$

19. Sabendo-se que função $f(x) = ax + b$ está representada no gráfico a seguir, então



- A $f(x) < 0$ para $x > 3$.
- B $f(x) = x - 3$.
- C $f(x) < 0$ para $x < 7$.
- D $f(x) = x + 3$.
- E $f(x) < 0$ para $x < 0$.

20. Sejam A e B as raízes da equação $x^2 - 7x + 4 = 0$. O valor de $A^2 + B^2$ é:

- A 49;

- B 41;
- C 36;
- D 28;
- E 11.

Ciências Naturais

21. Uma caixa possui massa de 120 kg. Para colocá-la em movimento sobre uma superfície horizontal com atrito, um estudante precisa aplicar uma força horizontal de módulo maior que 480 N. Considere a aceleração da gravidade igual a 10,0 m/s². Se mais 20,0 kg forem acrescentados à caixa, o estudante precisará aplicar uma força horizontal de módulo acima de que valor para colocá-la em movimento sobre a mesma superfície?

- A 240 N
- B 480 N
- C 560 N
- D 840 N
- E 880 N

22. Sobre as três leis de Newton, é correto afirmar-se que

- A se a Terra atrai um pacote de feijão com uma força de 50 N, o pacote de feijão é atraído pela Terra com uma força 9,8 vezes menor por causa da gravidade.
- B a resultante das forças que atuam sobre uma partícula em movimento circular uniforme é nula.
- C se a força resultante sobre um corpo for nula, o seu vetor velocidade permanecerá constante.
- D a lei da Ação e Reação explica por que sentimos que somos jogados para fora, quando um carro faz uma curva.
- E a velocidade de um corpo tem sempre a mesma direção e o mesmo sentido que a força resultante que nele atua.

23. Com relação às propriedades periódicas dos elementos químicos é correto afirmar que:

- A Em uma família da tabela periódica, o raio atômico aumenta de cima para baixo, conforme aumenta o número atômico.
- B Em um período da tabela periódica, o raio atômico diminui da direita para a esquerda, conforme diminui o número atômico.
- C Em um período da tabela periódica, o raio atômico aumenta da direita para a esquerda, conforme aumenta o número atômico.

- D Em uma família da tabela periódica, o raio atômico aumenta de baixo para cima, conforme aumenta o número de níveis de energia do átomo.
- E Para elementos que ocupam uma mesma família ou período da tabela periódica, quanto menor o raio atômico, menor será a energia de ionização.

24. O efeito estufa é um fenômeno natural e possibilita a vida humana na Terra. Quando existe um balanço entre a energia solar incidente e a energia refletida na forma de calor pela superfície terrestre, o clima se mantém praticamente inalterado. Entretanto, o balanço de energia pode ser alterado devido às mudanças na concentração de gases de efeito estufa na atmosfera, decorrente da poluição. Dentre os principais gases de efeito estufa regulados pelo Protocolo de Quioto, aquele que é utilizado como referência para classificar o poder de aquecimento global dos demais gases de efeito estufa é o:

- A Gás metano – CH₄.
- B Óxido nitroso - N₂O.
- C Hexafluoreto de enxofre - SF₆.
- D Perfluorcarbonos – PFCs.
- E Dióxido de carbono – CO₂.

25. No ensino da biologia os seres vivos são agrupados em níveis crescentes de organização que vão desde o nível molecular até a biosfera. Em relação à organização biológica assinale a alternativa CORRETA:

- A Populações são formadas por um conjunto de indivíduos que vivem em um mesmo local e são da mesma espécie ou de espécies diferentes.
- B O conjunto de órgãos que interagem para a execução de certas funções forma os sistemas.
- C O conjunto de populações de espécies distintas que vivem em locais diferentes forma uma comunidade.
- D Os órgãos são a unidade morfológica e funcional dos seres vivos.
- E Organismos da mesma espécie e de espécies diferentes formam uma população.

26. A epidemia de dengue em Campinas (SP) chegou a 5016 casos e outras seis mortes são investigadas, segundo balanço divulgado pela Prefeitura nesta segunda-feira (14.04.2014). Desses, 173 são considerados graves e os pacientes inspiram mais cuidados. (G1 – Adaptado) A doença citada no texto é causada por um tipo de

- A vírus e é transmitida pela picada do mosquito Aedes aegypti.

- B bactéria e é transmitida pela picada do mosquito *Aedes aegypti*.
- C vírus e é transmitida pela picada do barbeiro *Triatoma*.
- D protozoário e é transmitida pela picada do mosquito *Anopheles*.
- E protozoário e é transmitida pela picada do barbeiro *Anopheles*.

27. Os ecossistemas são conjuntos dinâmicos devido à interação permanente dos seus componentes bióticos e abióticos. São fatores bióticos dos ecossistemas:

- A os seres vivos.
- B as águas.
- C os solos.
- D a luz.
- E o calor.

28. Observe a imagem a seguir.



Com base na imagem e seus elementos, assinale a alternativa correta.

- A A imagem mostra uma raiz rizomatosa.
- B A imagem mostra uma raiz do tipo bulbo.
- C A imagem mostra uma raiz do tipo tubérculo.
- D A imagem mostra uma raiz pivotante ou axial.
- E A imagem mostra uma raiz fasciculada tuberosa.

29. As mudanças climáticas estão alterando severamente os biomas do planeta. Os tamanhos das populações estão apresentando um grande desequilíbrio. Determine qual dos fatores NÃO regulam o tamanho das populações.

- A competição interspecífica.

- B competição intra-específica.
- C predação.
- D clima.
- E parasitismo.

30. Os animais não vivem isolados, pelo contrário, mantêm relações entre si de forma permanente. Relacionam-se com outros membros da sua espécie ou com indivíduos de outras espécies a fim de obter alimento ou de defender-se de ataques. Um exemplo de relação ecológica entre os animais é o caso do peixe rêmora e do tubarão, na qual o peixe rêmora fica próximo ao tubarão e se aproveita dos seus restos alimentares para obter alimentação. A relação ecológica descrita acima é do tipo:

- A harmônica, comensalismo.
- B harmônica, sociedade.
- C desarmônica, parasitismo.
- D desarmônica, predatismo.
- E harmônica, colônia.

Atualidades

31. As imagens de pessoas na fila do osso, atrás de restos de carne, ou à espera do lixo do supermercado percorreram os meios de comunicação no último trimestre de 2020, quando mais da metade da população brasileira passou a conviver com algum tipo de insegurança alimentar.



Pessoas na fila para comprar as sobras de osso de caminhões que abastecem supermercados (Petrópolis – RJ, 2020).

A Pesquisa Nacional por Amostra de Domicílios (PNAD) do IBGE (Instituto Brasileiro de Geografia e Estatística), realizada entre 2004 e 2013, mostrava uma redução progressiva da insegurança alimentar em todo o País. Mas, em 2022, com a deterioração da situação, a fome retornou aos patamares de 2004. A respeito dos fatores que contribuíram para esse retrocesso, analise as afirmativas a seguir:

I. Esse aumento da insegurança alimentar é fruto de um conjunto de fatores, como aumento do desemprego, desaceleração do crescimento do salário-mínimo e piora de políticas sociais.

II. A pandemia agravou a pobreza, acentuando desigualdades socioeconômicas e alimentares, especialmente o acesso a alimentos saudáveis de forma regular e em quantidade e qualidade suficientes.

III. A fome e a insegurança alimentar no Brasil têm causas circunstanciais, relacionadas à interrupção do fornecimento aos mercados e às cadeias de abastecimento, devido à crise pandêmica de saúde.

Está correto o que se afirma em

- A I, apenas.
- B II, apenas.
- C I e III, apenas.
- D II e III, apenas.
- E I, II e III.

32. Assinale a opção que indica corretamente a associação que reúne os países do círculo do Pacífico para promover e facilitar o livre comércio e a cooperação econômica e técnica.

- A Grupo dos BRICS.
- B Comunidade Andina (CAN).
- C Mercado Comum do Sul (MERCOSUL).
- D Fórum Econômico Ásia-Pacífico (APEC).
- E União de Nações Sul-Americanas (UNASUL).

33. O desaparecimento de Dom Philips e Bruno Pereira na Amazônia brasileira gerou um grande debate sobre o aparelhamento e sucateamento dos órgãos de fiscalização e proteção dos povos indígenas brasileiros. Qual dos órgãos abaixo é o principal responsável nesta tarefa? Assinale a alternativa correta:

- A FUNAI.
- B PRF.
- C IAP.
- D IBAMA.
- E MEC.

34. Qual dos impostos abaixo foi alvo de uma grande tensão política no Brasil entre o presidente e os governadores, principalmente no que diz respeito ao preço dos combustíveis? Assinale a alternativa correta:

- A IPTU.
- B ICMS.

- C IPVA.
- D IRPF.
- E ITR.

35. O Senado Federal aprovou a indicação feita pelo presidente Jair Bolsonaro, para assumir uma vaga no Supremo Tribunal Federal (STF). Ele se tornou o segundo ministro indicado por Bolsonaro para assumir vaga no STF. O aprovado foi:

- A Kassio Nunes.
- B Augusto Aras.
- C Bruno Bianco.
- D Sérgio Moro.
- E André Mendonça.

36. Observe a imagem abaixo:



Kamala Harris é uma política estadunidense que tem em sua trajetória um feito histórico, alcançado ano passado. Esse feito é:

- A Ser eleita a primeira Senadora negra dos Estados Unidos.
- B Ser eleita a primeira Governadora negra dos Estados Unidos.
- C Ser eleita a primeira Ministra da Economia negra dos Estados Unidos.
- D Ser eleita a primeira Presidente negra dos Estados Unidos.
- E Ser eleita a primeira Vice-Presidente negra dos Estados Unidos.

37. Após meses de escalada militar e tensão na fronteira com a Ucrânia, a Rússia atacou o país do Leste Europeu no amanhecer do dia 24 de fevereiro, quando as forças russas começaram a bombardear diversas regiões do país. A escalada no conflito de anos entre a Rússia e a Ucrânia desencadeou a maior crise de segurança no continente desde a Guerra Fria, levantando o espectro de um confronto perigoso entre as potências ocidentais e Moscou. (CNNBrasil) Sobre

as tensões entre Rússia e Ucrânia, é correto afirmar que:

- A A Rússia foi dominada pelo Império Ucraniano e teve sua independência ucraniana apenas em 1991.
- B A aproximação da Ucrânia com o Ocidente é vista com desconfiança pela Rússia, que teme a perda de uma importante área de influência.
- C A Ucrânia não recebeu apoio de nações ocidentais, como os Estados Unidos e o Reino Unido, para impedir uma possível invasão russa.
- D Durante o contexto soviético, a população russa teve a sua liberdade reprimida pela Ucrânia, por meio da imposição de práticas culturais e linguísticas.
- E Um dos motivos da atual guerra é a invasão ucraniana na península da Crimeia, parte do território russo, em 2014.

38. As temperaturas mundiais estão subindo por causa da atividade humana. Se a situação não for controlada, os humanos e a natureza passarão por um aquecimento catastrófico, com o agravamento das secas, maior aumento do nível do mar e extinção em massa de espécies. (G1) A situação descrita no trecho anterior remete principalmente:

- A ao desmatamento.
- B as mudanças climáticas.
- C a alteração no ritmo anual de chuvas.
- D a perda de reservas ecológicas mundiais.
- E a falta de políticas públicas de sustentabilidade.

39. As eleições gerais no Brasil em 2022 estão agendadas para o dia 2 de outubro, em primeiro turno, e 30 de outubro em segundo turno, onde houver. Nesses dias, serão eleitos o presidente, o vice-presidente e o Congresso Nacional. Atualmente, o Congresso Nacional é composto por:

- A 458 deputados e 80 senadores
- B 523 deputados e 85 senadores
- C 513 deputados e 81 senadores
- D 533 deputados e 90 senadores
- E 550 deputados e 85 senadores

40. Qual país abaixo foi considerado o primeiro epicentro europeu da pandemia de covid-19? Assinale a alternativa correta:

- A Noruega.
- B Itália.
- C França.
- D Alemanha.
- E China.

Informática

41. É um sistema de comunicação baseado no envio e recebimento de mensagens eletrônicas (email) através de computadores pela Internet. Marque a alternativa CORRETA que está relacionado ao contexto acima.

- A SMS.
- B Chat.
- C Correio Eletrônico.
- D Redes Sociais.
- E Fórum.

42. No que se refere à computação em nuvem, é CORRETO o que se afirma em:

- A Uma desvantagem para a empresa que utiliza os serviços em nuvem é o aumento da complexidade da manutenção da infraestrutura de hardware necessária ao armazenamento e acesso aos dados da empresa que estão armazenados na nuvem.
- B O usuário é sempre responsável pela realização de backup e de armazenamento seguro de seus dados.
- C Toda nuvem é obrigada a disponibilizar para os usuários o acesso ao hardware físico.
- D Uma das vantagens para a empresa que utiliza os serviços em nuvem é a redução de custos com manutenção e com consumo de energia elétrica.
- E Nesse modelo de computação, a empresa que utiliza os serviços em nuvem deve ser sempre informada sobre a localização geográfica exata de armazenamento dos seus dados.

43. Acidentalmente um usuário do Windows, selecionou um arquivo da área de trabalho e em seguida pressionou as teclas SHIFT + DELETE. O resultado do comando será:

- A exclusão do arquivo com armazenamento para a lixeira.
- B cria um atalho na área de trabalho.
- C exclusão do arquivo sem armazenamento na Lixeira.
- D faz uma cópia no Drive C: do computador.
- E mostra as propriedades do arquivo.

44. Dos aplicativos a seguir, qual foi adicionado como um novo aplicativo nativo a partir do Windows 10?

- A Movie Maker.
- B Paint 3D.
- C Wordpad.
- D Internet explorer.

E Calculadora.

45. No terminal do Linux, os comandos responsáveis por listar o conteúdo de uma pasta e exibir o diretório corrente são, respectivamente:

- A dir e ls
- B mkdir e dir
- C ls e listdir
- D ls e pwd
- E pwd e dir

46. Na elaboração de ofícios utiliza-se um redator de textos. Entre os citados abaixo, qual é o software adequado para essa tarefa:

- A Excel.
- B Power Point.
- C Word.
- D Outlook.
- E Firefox.

47. Dentre as opções abaixo, qual é uma extensão válida de edição de planilhas no MS Excel?

- A .docx
- B .png
- C .xxt
- D .csv
- E .tiff

48. Considere a seguinte imagem retirada de uma planilha do MS Excel.

	A	B	C	D
1	Nome	Departamento	Cidade	Salário
2	Benício	RH	Campina Grande	R\$ 3.500,00
3	Antônio	Vendas	Campina Grande	R\$ 4.500,00
4	Jefferson	Manutenção	João Pessoa	R\$ 3.000,00
5	Lúcia	Vendas	Patos	R\$ 5.500,00
6	João	Comercial	Souza	R\$ 4.000,00
7	Tânia	TI	Santa Terezinha	R\$ 5.500,00
8				
9				
10	João	=PROCV(A10;A2:D7;4;0)		

Qual o resultado da função da célula B10?

- A R\$ 3.000,00
- B R\$ 4.000,00
- C R\$ 5.500,00
- D Santa Terezinha
- E Souza

49. Uma das formas de aperfeiçoar as suas apresentações feitas no Microsoft Power Point é

utilizar os recursos oferecidos pelo aplicativo. Um desses recurso é o Clip-arts que são:

- A Efeitos que pode ser inseridos na apresentação.
- B Textos prontos que pode ser inseridos na apresentação.
- C Layout que pode ser inseridos na apresentação.
- D Objetos em forma de desenhos que podem ser inseridos na apresentação.
- E Comentários que pode ser inseridos na apresentação.

50. Matheus está preparando um volumoso relatório no MS Word, no qual os cabeçalhos são diferentes entre si em pelo menos dez trechos do documento. O recurso de edição que permite preparar o texto dessa forma é:

- A formatação condicional;
- B inserção de formas;
- C pincel de formatação;
- D quebras de seção;
- E referência cruzada.

Igualdade Racial e de Gênero

51. Com base no Estatuto Nacional da Igualdade Racial, Lei Federal nº 12.288/2010, assinale a alternativa correta.

- A Os programas de ação afirmativa constituir-se-ão em políticas públicas destinadas a reparar as distorções e desigualdades sociais e demais práticas discriminatórias adotadas, somente na esfera privada, durante o processo de formação social do País.
- B O direito à saúde da população negra será garantido pelo poder público mediante políticas universais, sociais e econômicas destinadas à redução do risco de doenças e de outros agravos.
- C O poder público não garantirá que o segmento da população negra vinculado aos seguros privados de saúde seja tratado sem discriminação.
- D A população negra não tem direito a participar de atividades educacionais, culturais, esportivas e de lazer adequadas a seus interesses e condições.
- E Nos estabelecimentos de ensino fundamental e de ensino médio, públicos e privados, é facultativo o estudo da história geral da África e da história da população negra no Brasil.

52. Conforme a Lei nº 7.716, de 05/01/1989, que define os crimes resultantes de preconceito de raça ou de cor, assinale a alternativa que conste um crime punido na forma desta Lei.

A Caluniar alguém, imputando-lhe falsamente fato definido como crime

B Constranger alguém, mediante violência ou grave ameaça, ou depois de lhe haver reduzido, por qualquer outro meio, a capacidade de resistência, a não fazer o que a lei permite, ou a fazer o que ela não manda

C Expor alguém, por meio de relações sexuais ou qualquer ato libidinoso, a contágio de moléstia venérea, de que sabe ou deve saber que está contaminado

D Abandonar pessoa que está sob seu cuidado, guarda, vigilância ou autoridade, e, por qualquer motivo, incapaz de defender-se dos riscos resultantes do abandono

E Impedir ou obstar o acesso de alguém, devidamente habilitado, a qualquer cargo da Administração Direta ou Indireta, bem como das concessionárias de serviços públicos

53. Nos termos preconizados pela Lei no 7.716/1989, que define os crimes de preconceito de raça ou de cor, constitui efeito da condenação, por um dos crimes definidos nesta lei, devendo ser motivadamente declarado na sentença, a

A suspensão do exercício do cargo ou função pública, para o servidor público, pelo prazo de 6 meses, e a suspensão do funcionamento do estabelecimento particular por prazo não superior a três anos.

B perda do cargo ou função pública, para o servidor público, e o fechamento do estabelecimento particular.

C suspensão do exercício do cargo ou função pública, para o servidor público, pelo prazo de três meses, e a suspensão do funcionamento do estabelecimento particular no mesmo prazo.

D perda do cargo ou função pública, para o servidor público, e a suspensão do funcionamento do estabelecimento particular por prazo não superior a seis meses.

E perda do cargo ou função pública, para o servidor público, e a suspensão do funcionamento do estabelecimento particular por prazo não superior a três meses.

54. No atendimento à mulher em situação de violência doméstica e familiar, a autoridade policial, entre outras providências, deverá

A garantir proteção policial, em qualquer situação, comunicando de imediato o Conselho de Proteção.

B quando houver risco à vida da mulher, encaminhar a ofendida ao hospital ou posto de saúde e ao Instituto Médico Legal, após cientificar o Ministério Público.

C se necessário, acompanhar a ofendida para assegurar a retirada de seus pertences do local da ocorrência ou do domicílio familiar.

D quando houver risco à vida da mulher, fornecer transporte exclusivamente a ofendida, sendo vedado o transporte de seus dependentes.

E convocar o marido e promover uma tentativa de conciliação, encaminhando ao Poder Judiciário um relatório para homologação.

Direito Constitucional

55. Sobre nacionalidade, é certo dizer que os nascidos na República Federativa do Brasil, ainda que de pais estrangeiros, desde que estes não estejam a serviço de seu país, são:

A brasileiros natos.

B brasileiros naturalizados.

C estrangeiros.

D apátridas.

E refugiados.

56. Erradicar a pobreza e a marginalização, bem como reduzir as desigualdades sociais e regionais, constituem os

A princípios fundamentais da República Federativa do Brasil.

B direitos individuais assegurados pela República Federativa do Brasil.

C princípios da República Federativa do Brasil, regentes das relações internacionais.

D objetivos fundamentais da República Federativa do Brasil.

E deveres fundamentais assegurados pela República Federativa do Brasil.

57. Ivan, brasileiro nato, durante o período de serviço militar obrigatório para o qual fora convocado, decidiu concorrer ao cargo eletivo de vereador nas eleições que se realizariam em pouco menos de um ano. À luz da sistemática constitucional, é correto afirmar que Ivan

A pode se alistar como eleitor, mas, por ser conscrito, não pode concorrer a qualquer cargo eletivo.

B não pode se alistar como eleitor, por ser conscrito, o que o impede de concorrer a um cargo eletivo.

C não pode se alistar como eleitor, vedação que alcança todos os militares, o que o impede de concorrer a um cargo eletivo.

D pode se alistar como eleitor, mas, a exemplo de todos os militares, não pode concorrer a um cargo eletivo.

E pode se alistar como eleitor, por ser brasileiro nato e maior de dezoito anos, e pode se candidatar a um cargo eletivo.

58. Considerando a organização do Estado, pode-se afirmar que as terras tradicionalmente ocupadas pelos índios são bens pertencentes à(ao)(s):

- A União.
- B Estados.
- C Municípios.
- D Distrito federal.
- E Organização das Nações Unidas - ONU.

59. A respeito da Segurança Pública na Constituição Federal de 1988, art. 144, é correto afirmar que

- A Os Municípios são obrigados a constituir guardas municipais destinadas à proteção de seus bens, serviços e instalações, conforme dispuser a lei.
- B As polícias militares, forças auxiliares e reserva das Forças Armadas, exercerão a polícia ostensiva e a preservação da ordem pública.
- C a Polícia Federal e a Polícia Rodoviária Federal são forças auxiliares e reserva da Marinha, do Exército e da Aeronáutica.
- D Às polícias civis, dirigidas por delegados de polícia de carreira, incumbem, ressalvada a competência da União, as funções de polícia judiciária e a apuração de infrações penais, exceto as militares.
- E As polícias militares e os corpos de bombeiros militares, subordinam-se, juntamente com as polícias civis e as polícias penais estaduais e distrital, aos Governadores e aos Presidentes das Assembleias Legislativas dos Estados, do Distrito Federal e dos Territórios.

60. No que concerne ao Presidente e Vice-Presidente da República, de acordo com a Constituição Federal de 1988, é correto afirmar:

- A Em caso de impedimento do Presidente e do Vice-presidente, ou vacância dos respectivos cargos, serão sucessivamente chamados ao exercício da Presidência os Presidentes da Câmara dos Deputados, do Senado Federal e do Supremo Tribunal Federal.
- B Vagando os cargos de Presidente e Vice-Presidente da República, faltando 18 meses para o término do mandato, far-se-á eleição noventa dias depois de aberta a última vaga.
- C Será considerado eleito Presidente o candidato que, registrado por partido político, obtiver a maioria absoluta de votos, computados em branco e os nulos.

D O Presidente e o Vice-Presidente da República tomarão posse em sessão do Senado Federal, prestando o compromisso de manter, defender e cumprir a Constituição, observar as leis, promover o bem geral do povo brasileiro, sustentar a união, a integridade e a independência do Brasil.

E A eleição do Presidente e do Vice-Presidente da República realizar-se-á, simultaneamente, no segundo domingo de outubro, em primeiro turno.

61. Assinale a opção que apresenta órgão do Poder Judiciário que integra a justiça especializada.

- A Tribunal dos Estados, do Distrito Federal e dos Territórios
- B Tribunal Regional Federal
- C Supremo Tribunal Federal
- D Tribunal Superior do Trabalho
- E Conselho Nacional de Justiça

62. Acerca da remuneração dos servidores públicos, é certo que o cargo público que ganha o chamado “teto constitucional”, ou seja, recebe o valor máximo que pode ser pago a um servidor a título de remuneração, é o cargo de:

- A Desembargador do Tribunal de Justiça.
- B Ministro do Supremo Tribunal Federal.
- C Procurador Federal.
- D Ministro da Defesa.
- E Prefeito.

Direito Administrativo

63. O Princípio da Administração Pública, o qual prevê que as entidades da Administração Indireta não podem desvincular-se dos fins previstos em sua lei instituidora, é denominado:

- A Supremacia do interesse público.
- B Continuidade do serviço público.
- C Motivação.
- D Razoabilidade e proporcionalidade.
- E Especialidade.

64. Com relação ao poder de polícia, assinale a alternativa correta.

A O fundamento do poder de polícia é o princípio da predominância do interesse particular sobre o público, que dá aos administrados posição de supremacia sobre a Administração.

B O fundamento do poder de polícia é o princípio da irresponsabilidade do Estado, que dá à Administração posição de supremacia sobre os administrados.

C O fundamento do poder de polícia é o princípio da predominância do interesse particular sobre o público, que dá à Administração posição de supremacia sobre os administrados.

D O fundamento do poder de polícia é o princípio da predominância do interesse público sobre o particular, que dá à Administração posição de supremacia sobre os administrados.

E O fundamento do poder de polícia é o princípio da legalidade, que dá à Administração posição e prerrogativa de zelar pelo cumprimento da legislação.

65. Na administração pública federal, a administração direta compreende os serviços integrados na estrutura administrativa da

A Presidência da República, dos ministérios, das autarquias, das fundações públicas, das empresas públicas e das sociedades de economia mista.

B Presidência da República e dos ministérios, apenas.

C Presidência da República, dos ministérios e das autarquias, apenas.

D Presidência da República, dos ministérios, das autarquias e das fundações públicas, apenas.

E Presidência da República, dos ministérios, das autarquias, das fundações públicas e das empresas públicas, apenas.

66. Acerca dos atributos dos atos administrativos, assinale a alternativa correta.

A A presunção de veracidade se aplica aos atos privados da Administração Pública.

B A imperatividade constitui na prerrogativa de a Administração Pública executar, diretamente, os seus atos, independentemente da manifestação do Poder Judiciário.

C A presunção de veracidade não implica na inversão do ônus da prova, pois o cidadão tem o direito de exigir sempre que a autoridade pública comprove que está agindo de acordo com o princípio da legalidade.

D Prevalece na doutrina o entendimento de que a autoexecutoriedade prescinde prévia autorização legislativa ou a caracterização de situação emergencial.

E A autoexecutoriedade autoriza a Administração a, em determinados casos, utilizar de forma moderada a força para viabilizar a execução do interesse público.

67. Dentre outras hipóteses legais, apresenta-se como requisito ou condição para o ingresso no Corpo de Bombeiros Militar da Bahia:

A ser eleitor e achar-se em gozo dos seus direitos políticos

B possuir Carteira Nacional de Habilitação válida, categoria C

C possuir estatura mínima de 1,55 m para candidatos do sexo masculino e 1,50 m para as candidatas do sexo feminino

D ter o mínimo de vinte e um e o máximo de trinta anos de idade

E possuir a escolaridade ou formação profissional exigida ao acompanhamento do curso de formação a que se candidata, na data de inscrição do certame

68. Os Bombeiros Militares do Estado da Bahia somente devem ter acesso ao quadro por meio de concurso público. O seu vínculo empregatício é regido

A pela Constituição Estadual.

B por Estatuto próprio, aprovado por Lei específica — Lei nº 7.990/2001.

C pela Consolidação das Leis do Trabalho — CLT.

D por Decreto do Poder Executivo.

E pelo Estatuto dos Servidores Públicos Federais, por ser instituição criada pela Constituição Federal.

69. O Corpo de Bombeiros Militar da Bahia é regido pelos seguintes princípios institucionais, exceto:

A hierarquia militar

B legalidade

C religiosidade

D eficiência

E ética

70. O Corpo de Bombeiros Militar da Bahia será comandado por Oficial da ativa do CBMBA, do último Posto do Quadro de Oficiais Bombeiros Militares - QOBM, nomeado pelo _____. Conforme Lei estadual nº 13.202, de 09 de dezembro de 2014, assinale a alternativa que completa corretamente a lacuna anterior:

A Prefeito de Salvador

B Presidente da República

C Presidente do Supremo Tribunal Federal

D Governador do Estado

E Governador do Distrito Federal

Direito Penal Militar

71. A respeito da pena prevista para o crime de revolta pelo Código Penal Militar, é CORRETO afirmar que

- A a pena cominada por lei nessa hipótese é a de suspensão do exercício do posto.
- B os cabeças podem ser apenados com aumento de dois terços da pena cominada por lei.
- C os cabeças receberão a mesma pena fixada para todos os agentes.
- D a pena cominada por lei para esse tipo de crime é a de detenção.
- E os cabeças podem ser apenados com aumento de um terço da pena cominada por lei.

72. A respeito do crime de violência contra superior, é CORRETO afirmar que se

- A o superior for comandante da unidade a que pertence o agente, ou oficial general, a pena será de detenção.
- B a violência for praticada com arma, a pena será aumentada de dois terços.
- C da violência resultar lesão corporal, aplicar-se-á, além da pena da violência, a do crime contra a pessoa.
- D da violência resultar morte, a pena será de reforma.
- E o crime ocorrer em serviço, a pena será aumentada de um terço.

73. A reunião entre militares ou assemelhados, sem armas, agindo contra a ordem recebida de superior, ou negando-se a cumpri-la, é fato tipificado como crime de:

- A revolta.
- B organização de grupo para a prática de violência.
- C motim.
- D conspiração.
- E desrespeito a superior.

74. Sobre o crime de deserção, assinale a assertiva correta.

- A Quando a ausência se verificar em subunidade isolada ou em destacamento, o respectivo comandante, oficial ou não, providenciará o inventário do desertor, devendo tal processo ser acompanhado de um familiar do desertor.
- B Por ser crime de perigo abstrato, a denúncia deverá indicar, de forma clara e concreta, o prejuízo causado pela conduta do agente.
- C Em termos procedimentais, a deserção especial independe da lavratura de Termo de Deserção.
- D Uma vez que o desertor com estabilidade se apresente ao quartel, ele deverá ser submetido a inspeção de saúde e, quando julgado apto, será reincluído.

- E A deserção é crime de mera conduta porque se configura com a ausência sem licença pura e simples do militar, além do prazo estabelecido em lei.

75. Assinale a alternativa correta sobre a conduta prevista para o crime de peculato.

- A Apropriar-se de dinheiro, valor ou qualquer outro bem móvel, desde que público, de que tem a posse ou detenção, em razão do cargo ou comissão, ou desviá-lo em proveito próprio ou alheio
- B Apropriar-se de dinheiro, valor ou qualquer outro bem móvel, desde que particular, de que tem a posse ou detenção, em razão do cargo ou comissão, ou desviá-lo em proveito próprio ou alheio
- C Apropriar-se de dinheiro, valor ou qualquer outro bem móvel, público ou particular, de que tem a posse ou detenção, em razão do cargo ou comissão, ou desviá-lo em proveito próprio ou alheio
- D Apropriar-se de dinheiro, valor ou qualquer outro bem móvel, desde que público, de que tem a posse e não a detenção, em razão do cargo ou comissão, ou desviá-lo em proveito próprio ou alheio
- E Apropriar-se de dinheiro, valor ou qualquer outro bem móvel, desde que particular, de que tem a detenção e não a posse, em razão do cargo ou comissão, ou desviá-lo em proveito próprio ou alheio

76. O ato de “retardar ou deixar de praticar, indevidamente, ato de ofício, ou praticá-lo contra expressa disposição de lei, para satisfazer interesse ou sentimento pessoal” configura o crime militar de:

- A abuso de confiança
- B condescendência criminoso
- C omissão de dever funcional
- D retardamento de ato de ofício
- E prevaricação

Direitos Humanos

77. Há exatos trinta anos, um novo tratado internacional sobre os direitos dos povos indígenas e tribais entrou em vigor no mundo: a Convenção 169 da OIT, um dos braços da ONU. Com referência a essa importante convenção, assinale a opção correta.

- A A consulta prévia, livre e informada, prevista na convenção em apreço, restringe-se a empreendimentos que afetem o meio ambiente, não alcançando a política pública de saúde.

B A referida convenção limita-se aos direitos dos povos indígenas e, no Brasil, o ADCT trata dos direitos das comunidades remanescentes de quilombos.

C Por ter sido produzida e proclamada no âmbito da OIT, a referida convenção trata somente de direitos trabalhistas dos povos tradicionais.

D A convenção em apreço deverá ser aplicada a questões de ordem penal relativas aos povos indígenas.

E A data-limite para denúncia da citada convenção é 5/9/2023. Caso não o faça, o Brasil ficará obrigado a segui-la por mais dez anos.

78. O Pacto de São José da Costa Rica estipula que os Estados-Partes podem suspender as obrigações contraídas em virtude do referido Pacto, como por exemplo em situação de guerra, perigo público, ou de outra emergência que ameace a sua independência ou sua segurança. Dentre os direitos que podem ser suspensos nessas hipóteses, está

A o Direito à Nacionalidade.

B o Direito de Circulação.

C o Direito ao Reconhecimento da Personalidade Jurídica.

D a Liberdade de Religião.

E o Princípio da Retroatividade da lei.

79. É direito previsto no Pacto Internacional sobre Direitos Civis e Políticos:

A a vedação da prisão para quem não puder cumprir uma obrigação contratual.

B jovens e adultos presos podem ser agrupados, ao passo que os idosos ficarão separados, devendo ser julgados o mais breve possível.

C a proibição da pena de morte.

D pessoas processadas serão sempre separadas das pessoas condenadas, recebendo tratamento distinto, condizente com sua condição de pessoa não condenada.

E a vedação da da pessoas se submeter experiências médicas ou científicas, ainda que com seu livre consentimento.

80. No que concerne ao repouso, lazer e férias, é correto afirmar que a Declaração Universal dos Direitos Humanos

A não possui qualquer previsão.

B possui previsão com relação ao repouso, mas nada consta sobre as férias.

C contempla que o repouso, o lazer e as férias são direitos trabalhistas do ser humano.

D possui, entre outras, previsão de férias remuneradas periódicas.

E possui previsão com relação às férias, mas nada consta sobre o repouso.

Gabarito Rascunho

01	02	03	04	05	06	07	08	09	10	11	12	13	14	15	16	17	18	19	20
21	22	23	24	25	26	27	28	29	30	31	32	33	34	35	36	37	38	39	40
41	42	43	44	45	46	47	48	49	50	51	52	53	54	55	56	57	58	59	60
61	62	63	64	65	66	67	68	69	70	71	72	73	74	75	76	77	78	79	80

Gabarito

Simulado Grátis – Corpo de Bombeiros Militar da Bahia

NÍVEL MÉDIO

Soldado																			
01	02	03	04	05	06	07	08	09	10	11	12	13	14	15	16	17	18	19	20
D	B	E	A	A	B	C	E	D	B	C	C	D	A	C	B	B	E	A	B
21	22	23	24	25	26	27	28	29	30	31	32	33	34	35	36	37	38	39	40
C	E	A	E	B	A	A	E	D	A	E	D	A	B	E	E	B	B	C	B
41	42	43	44	45	46	47	48	49	50	51	52	53	54	55	56	57	58	59	60
C	D	C	B	D	C	D	B	D	D	B	E	E	C	A	D	B	A	D	A
61	62	63	64	65	66	67	68	69	70	71	72	73	74	75	76	77	78	79	80
D	B	E	D	B	E	A	B	C	D	E	C	C	E	C	E	D	B	A	D