

SIMULADO AMOSTRA

GUARDA MUNICIPAL DE FORTALEZA

Concurso 2023



PROVA OBJETIVA**Língua Portuguesa****Texto I (Questões 01 a 06)****Para as turmas desafiadoras, novas práticas**

O que fazer quando aquela classe faz o professor questionar a sua capacidade e prática docente

- 5 “A turma mais difícil é o 7º ano. Nunca tive alunos que me fizessem sentir tão vulnerável. Acho que desaprendi a ser professor.” Essas palavras foram ditas por um colega muito experiente. Fiquei perplexo, pois ele é uma referência, querido pelos alunos e admirado pelos colegas; o tipo que sempre traz soluções. Levei um choque, e sua fala me fez perceber que todos enfrentamos turmas que colocam em xeque nossa habilidade e experiência.
- 10 Quando percebemos que uma turma será muito difícil, é porque nosso repertório está se esgotando. Precisamos de outras saídas e, para chegar a elas, é fundamental conversar com colegas, coordenação e direção. Um ótimo início é fazer uma análise aluno a
- 15 aluno, buscando entender o que é do grupo e o que é individual. Uma vez detectados quais os casos mais sérios, é importante definir encaminhamentos que toda a equipe realizará: em que situações alunos poderão ser excluídos da sala, por exemplo? Em que casos pedir ajuda à direção? É muito importante que a equipe faça intervenções conjuntas e consistentes.
- 20 Os alunos percebem rapidamente quando estamos desarticulados e usam isso em seu enfrentamento: “Se a outra deixou, por que você não deixa?” Também é preciso assumir nossa parcela de responsabilidade. Em que medida nossas aulas contribuem para gerar indisciplina? Ninguém propõe intencionalmente atividades que estimulam o tumulto, mas é preciso reconhecer que algumas não funcionam com certas turmas. Pode ser um
- 25 problema da nossa prática, mas também ser um choque entre ela e os estudantes que, muitas vezes, estão imaturos para certas propostas. Nas classes difíceis que enfrentei, por exemplo, percebi que aulas expositivas são ruins, pois eram gatilho para a distração. Aprendi, na
- 30 marra, a reduzir esse tipo de aula para as inquietas. Turmas assim dão muito trabalho, mas também as maiores recompensas. Caso os professores revejam suas práticas e se organizem como grupo para fazer intervenções consistentes, serão aquelas que ficarão na
- 35 nossa memória e que nos farão acreditar que contribuimos para a transformação dos nossos alunos.

Felipe Bandoni – Adaptado

01. Assinale a alternativa que represente a tipologia textual que predomina no Texto I.

- A narrativa
- B injuntiva
- C expositiva
- D argumentativa

02. Assinale a única alternativa que represente o assunto principal tratado ao longo de todo o Texto I.

- A As dificuldades impostas por alunos indisciplinados aos professores.
- B A incapacidade de um professor experiente para lidar com turmas difíceis.
- C As estratégias a ser usadas pelo professor para lidar com turmas difíceis.
- D A inadequação das aulas expositivas em turmas difíceis.

03. Assinale a única alternativa que não represente uma atitude sugerida pelo autor do Texto I aos professores que se percebem trabalhando com uma turma que estes consideram difícil.

- A Buscar auxílio com colegas de profissão.
- B Selecionar alguns alunos para excluí-los da turma.
- C Identificar quais dificuldades são específicas de alunos específicos e quais são da turma como um todo.
- D Combinar com os demais professores e com os gestores intervenções padronizadas.

04. Assinale a alternativa que exprima corretamente a função sintática do trecho grifado da oração “Os alunos percebem rapidamente quando estamos desarticulados” (l. 22-23) retirada do Texto I.

- A oração subordinada substantiva objetiva direta
- B oração subordinada adverbial de tempo
- C oração subordinada apositiva
- D oração coordenada assindética

05. Considerando as informações veiculadas no Texto I, avalie as seguintes asserções e a relação proposta entre elas:

I. É necessário que o professor reconheça que, às vezes, uma atividade que ele propôs não era adequada para uma turma em particular.

PORQUE

II. Turmas difíceis são as que levam o professor a acreditar que ele contribuiu para a transformação de seus alunos.

A respeito dessas asserções, assinale a alternativa correta.

- A As asserções I e II são proposições verdadeiras, e a II é uma justificativa da I.
- B A asserção I é uma proposição verdadeira, e a II é uma proposição falsa.
- C A asserção I é uma proposição falsa, e a II é uma proposição verdadeira.
- D As asserções I e II são proposições verdadeiras, mas a II não é uma justificativa da I.

06. Assinale a única alternativa em que a reescritura do trecho fornecido permanece adequada ao que preceitua a norma culta da língua portuguesa e com o mesmo sentido presente no texto: “Levei um choque, e sua fala me fez perceber que todos enfrentamos turmas que colocam em xeque nossa habilidade e experiência.” (l. 6-9)

- A Fiquei muito surpreso, sua fala me fez compreender que todos nos deparamos com turmas que nos fazem questionar nossa habilidade e experiência.
- B Me assustei, e seu sentimento me fez notar que todos enfrentamos turmas que nos fazem desconfiar da nossa habilidade e experiência.
- C Levei um susto, mas sua fala me fez desconfiar que todos somos colocados diante de turmas que nos levam a perceber que não somos tão competentes quanto pensávamos.
- D Fiquei perplexo, mas sua fala me fez notar que todos encaramos grupos que os fazem perceber o quanto somos habilidosos e experientes.

Texto II (Questões 07 a 10)

Podemos ser mais dignos? Podemos.

Difícilmente encontramos alguém, a não ser criança ou adolescente naquela fase de autorreferência compulsiva e natural, que esteja contente com a situação em geral.

Que pense ou diga: “Está tudo bem, estamos tranquilos, o país cresce, o povo é razoavelmente bem tratado, nada a reclamar...”.

Manifestações se agitam no Brasil. Pelos mais singulares motivos, ora surreais, ora convincentes, saímos às ruas, querendo ordem, progresso e paz, mas admitindo entre nós a violência e o crime, tudo organizado e financiado por alguém. Um partido, uma instituição, um grupo... alguém. Pois nada disso acontece aleatoriamente.

A mim me impressionam centenas de pessoas descendo de um trem quebrado e andando pelos trilhos em busca do seu destino ou de uma condução.

Às vezes jogam pedras e quebram vidros ou portas do trem, mas a maioria, mesmo reclamando, não demonstra indignação. Muitos, num meio sorriso resignado, dizem: “É ruim, mas é assim, que fazer?”.

Ou, quando a enchente mais uma vez inundou a casa, matou a criança, destruiu os bens, e ninguém em alguns anos providenciou nada, comentam: “Com a ajuda de Deus, vou mais uma vez começar do zero”. Manadas de seres humanos apinhados nos ônibus e trens, sem o menor conforto, pendurados naquelas alças, esfregados, amassados por tantos corpos humanos suados e exaustos, dia após dia, ano após ano, consumindo diariamente duas, quatro horas de seu tempo, sua saúde, sua vida, vão para o trabalho e voltam, em condição subumana, e fazem suas reclamações, às vezes com palavras duras e justas, mas acrescentam: “O que fazer? Por aqui é assim”.

Podemos melhorar de vida? Podemos não ser caçados por bandidos como coelhos pelas ruas dia e noite, podemos viver em morros sem nos enfiarmos embaixo da cama nos frequentes tiroteios, podemos ter água para beber, cozinhar e tomar banho, e energia elétrica para o chuveiro, o ventilador, a luz da casa?

Não sabemos para que lado nos virar, onde procurar, a quem recorrer. Talvez a esperança seja não a destruição de ônibus, a quebra de lojas, a insensatez desatada, mas o gesto mais simples, breve, pequeno, porém transformador, desde que a gente saiba o que está fazendo, o que deve fazer: o “voto”.

Porém uma imensa maioria de nós, embora adulta, nem sabe ler. Outra boa parte da população, se sabe ler, não tem energia, interesse, tempo, instrução suficiente para se dedicar a esses assuntos, se informar, debater e descobrir algum nome a quem confiar esse voto.

Então, por estarmos tão cansados, suados, desanimados ou zangados, mas sem lucidez, eles vão receber, na hora da eleição, o apoio de quem parou um instante no posto da ilusão e digitou um número, um nome, uma sigla, um destino seu, que não acabará significando nada.

Lya Luft – Adaptado

07. Segundo informações do texto, é correto afirmar que

- A não é possível melhorar de vida.
- B uma imensa maioria de nós, embora adulta, nem sabe ler.
- C a única esperança é a destruição de ônibus e a quebra de lojas.
- D a minoria das pessoas não demonstra indignação através de manifestações.

08. No trecho “Difícilmente encontramos alguém, a não ser criança ou adolescente naquela fase de autorreferência compulsiva e natural, que esteja contente com a situação em geral.” (1º§), a expressão sublinhada expressa

- A modo.
- B tempo.
- C afirmação.
- D intensidade.

09. Em “Então, por estarmos tão cansados, suados, desanimados ou zangados, mas sem lucidez, eles vão receber, na hora da eleição, o apoio de quem parou um instante no posto da ilusão e digitou um número, um nome, uma sigla, um destino seu, que não acabará significando nada.” (10º§), o termo destacado pode ser substituído, sem alteração de sentido, por

- A logo.
- B todavia.
- C entretanto.
- D finalmente.

10. A palavra “alguém”, transcrita do texto, é acentuada pelo mesmo motivo que a seguinte palavra:

- A País.
- B Água.
- C Ônibus.
- D Porém.

Raciocínio Lógico

11. Três amigos, Pedro, Rafael e Daniel, respectivamente eles têm 12 anos, 13 anos e 13 anos. Daqui a quantos anos a soma das idades deles será de 182 anos?

- A 42
- B 44
- C 46
- D 48

12. Considere a seguinte sequência:

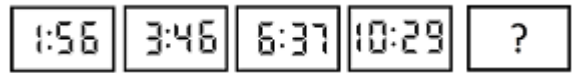
(14, 41, X, 365, 1.094)

Qual é o valor de X na sequência apresentada?

- A 121.
- B 122.

- C 123.
- D 124.

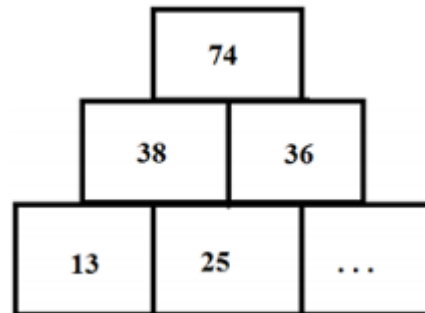
13. Observe a sequência de relógios a seguir:



A hora que substitui o sinal de interrogação no quinto relógio é:

- A 14:19.
- B 14:23.
- C 15:18.
- D 15:22.

14. Qual alternativa completa o diagrama apresentado a seguir?



- A 9.
- B 11.
- C 15.
- D 35.

15. Numa apresentação musical com um grupo de 28 artistas constatou-se que:

- 14 tocaram algum instrumento musical;
- 19 cantaram;
- 16 dançaram;
- 13 tocaram algum instrumento musical e cantaram;
- 7 cantaram e dançaram; e,
- 5 tocaram algum instrumento musical e dançaram.

Quantas pessoas do grupo NÃO dançaram?

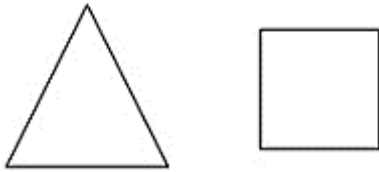
- A 10.
- B 11.
- C 12.
- D 13.

16. Em 2014, o Dia Internacional da Mulher, 8 de março, ocorreu em um sábado. Maria realizou uma

prova exatamente 25 semanas após o dia 8 de março do ano de 2012. Dessa forma, essa prova caiu em um(a)

- A sábado.
- B sexta-feira.
- C quinta-feira.
- D quarta-feira.

17. A seguir estão representados um triângulo equilátero e um quadrado, cujos perímetros são iguais.



Se a diferença entre os lados dessas 2 figuras é igual a 3 cm, então, o perímetro de cada uma delas mede

- A 24 cm.
- B 28 cm.
- C 32 cm.
- D 36 cm.

18. Considere os conjuntos

- A = {0, 1, 2, 3}
- B = {1, 3}
- C = {1, 2, 3}

Qual conjunto representa o resultado de $(A \cap B) \cup C$?

- A {0, 1, 2, 3}.
- B {1, 2, 3}.
- C {1, 3}.
- D {0, 2}.

19. Uma loja de material de construção divide seus azulejos em duas categorias: azulejos para banheiro e azulejos para cozinha, sendo que alguns azulejos podem estar inseridos nas duas categorias. Na loja há 125 azulejos para banheiro e 230 azulejos para cozinha. Sabendo que a loja possui 310 azulejos, então o número de azulejos que são tanto para banheiro quanto para cozinha é:

- A 25.
- B 40.
- C 45.
- D 60.

Noções de Informática

20. O software responsável por detectar, evitar e atuar na neutralização ou remoção de programas mal-intencionados denomina-se:

- A Rootkit.
- B Antivírus.
- C Backdoor.
- D Keylogger.

21. O diretor de uma certa empresa de venda de seguros, visando uma maior interatividade dos seus colaboradores, contratou uma empresa de tecnologia da informação para desenvolver um portal onde serão divulgadas informações para todos colaboradores, como aniversariantes do mês, mural de avisos e emissão de contracheque. Ao realizar o contrato com a empresa, o diretor foi incisivo ao afirmar que o portal deveria ser de uso restrito aos colaboradores da sua empresa, que poderão acessá-lo através de um login/senha disponibilizado pela direção no ato da admissão. De acordo com as informações, afirma-se que o serviço contratado é para criar uma

- A Intranet.
- B Extranet.
- C Internet privada.
- D Página de arquivos.

22. Sobre os sistemas operacionais se suas atribuições, analise as opções abaixo e marque a opção correta.

- I. Gerenciam a utilização da memória.
- II. Controlam a execução de processos e aplicações.
- III. Gerenciam o uso dos dispositivos de entrada e saída.

- A Todas as afirmações são corretas.
- B Apenas a opção III é incorreta.
- C Apenas a opção I é incorreta.
- D As opções II e III são incorretas.

23. Sobre noções de correio eletrônico, é INCORRETO afirmar que:

- A O campo Cc é utilizado para mandar cópias da mesma mensagem.
- B O corpo da mensagem é o local onde a mensagem deve ser redigida.

C A caixa de entrada é o local onde ficam armazenadas as mensagens recebidas.
D A caixa de envio é o local onde ficam armazenadas as mensagens que foram enviadas.

24. Sabendo que o processador de um dispositivo computacional é dividido em componentes, indique a alternativa com o item que realiza os cálculos matemáticos e operações lógicas.

- A Unidade Lógica de Processamento.
- B Unidade de Controle.
- C Memória cache.
- D Registradores.

25. Um usuário do Google Meet deseja discutir com dois colegas de trabalho a solução de um problema urgente. Para tanto, utilizou o chat da empresa para enviar o link da videoconferência para os colegas, com o aviso de que a questão era emergencial. Para definir o link dessa nova videoconferência, esse usuário clicou na opção Meet a partir do menu Google Apps de seu navegador Google Chrome e selecionou a opção

- A Convocar evento.
- B Intimar grupo.
- C Marcar encontro.
- D Nova reunião.

26. No programa LibreOffice Writer, qual função é designada a opção “Colar Especial”, que se encontra no Menu Editar?

- A Inserir o conteúdo da área de transferência num arquivo, permitindo, ao usuário, especificar um formato para os dados inseridos. Esse comando é muito útil quando se quer copiar apenas um texto da Internet e não a sua formatação.
- B Copiar um conteúdo, ou seja, a parte do texto copiada é enviada para área de transferência e pode ser copiada em outro local do texto ou até mesmo num arquivo trabalhado em um outro programa.
- C Selecionar palavra ou texto desejado, eliminando-o.
- D Reverter o último comando ou a última entrada digitada.

Atualidades

Texto III (Questão 27)

Governo estuda ampliar energia solar aos mais pobres

O governo estuda a criação de um programa para facilitar o acesso da população, sobretudo os mais pobres, à chamada geração distribuída – modalidade em que o consumidor gera a própria energia elétrica a partir de fontes renováveis.

CNNBRASIL.com (Acesso em: 07/01/2023)

27. É atualmente a principal fonte de energia elétrica do Brasil:

- A Solar.
- B Eólica.
- C Hidroelétrica.
- D Termoelétrica.

Texto IV (Questão 28)

Existe uma maior dificuldade por parte de mulheres pardas e pretas responsáveis por assegurar a alimentação familiar em garantir a segurança alimentar do seu núcleo.

A garantia de segurança alimentar no Brasil nos últimos anos tem desenvolvimento cíclico, registrando movimentos ondulares de alta e baixa.

O impacto da pandemia no mercado de trabalho fez com que a diferença da taxa de desemprego entre brancos e pretos aumentasse e atingisse seu maior nível desde 2012, quando começou a atual pesquisa do IBGE (Instituto Brasileiro de Geografia e Estatística). Segundo especialistas [...], isso aconteceu porque a crise provocada pelo coronavírus atingiu principalmente atividades econômicas com maior participação de negros, como comércio e construção civil.

UOL – Adaptado

28. Segundo o trecho de reportagem citado, o impacto da pandemia afetou de forma mais acentuada a população negra porque

- A a pandemia foi responsável pela ampliação da taxa de desemprego de negros quando comparada com a de brancos.
- B o comércio e a construção civil são setores econômicos pouco regulamentados, o que facilita demissões para fugir de crises.
- C a referida parcela social se constitui no grupo social mais suscetível à contaminação pelo novo coronavírus.
- D os setores econômicos com maior concentração de trabalhadores negros estão entre os que mais sofreram perdas no período.

29. Sobre a participação do Brasil na 27ª Reunião da Conferência das Nações Unidas sobre Mudança do Clima (COP27), é CORRETO afirmar que:

- A O Brasil não participou da COP27 em função da conjuntura da eleição presidencial.
- B Durante a COP27 o Brasil anunciou sua saída do Acordo de Paris.
- C O Brasil lançou a Agenda Brasil + Sustentável na COP 27.
- D Durante a COP 27, o Brasil criticou e condenou a Rússia pela invasão à Ucrânia.

30. O Projeto de Lei, número 191/20, que visa a regulamentar a exploração de recursos minerais, hídricos e orgânicos em reservas indígenas vai ao encontro das declarações do atual presidente, que desde a posse, defende o aproveitamento econômico de territórios indígenas. O projeto de lei pode ser entendido como uma consequência do atual conflito entre Ucrânia x Rússia, já que o Brasil:

- A Importa a maior quantidade de carnes bovinas consumidas no país, da Rússia e dadas as sanções precisa abrir novos espaços ao agronegócio.
- B É um dos principais fornecedores de minério de ferro para fabricação de veículos de guerra da Rússia.
- C Teve perdas econômicas em razão das sanções aplicadas a Ucrânia e se inclina a buscar novas jazidas minerais para sustentar a economia do carvão vegetal.
- D Importa grandes quantidades de fertilizantes da Rússia que, em razão do conflito, tem passado por diversas sanções. A falta de fertilizantes impacta, diretamente, o agronegócio brasileiro sendo necessário novas áreas de prospecção e extração de recursos que atendam a demanda nacional.

31. Após a invasão da Rússia na Ucrânia, dois países do norte europeu se manifestaram no sentido de aderir à Organização do Tratado do Atlântico Norte (OTAN). Assinale a alternativa que apresenta corretamente o nome de tais nações:

- A Suécia e Noruega.
- B Finlândia e Suécia.
- C Dinamarca e Noruega.
- D Finlândia e Dinamarca.

32. Foi publicado na revista eletrônica Info Money de 05/12/22: “Brasil já responde por 10% dos ‘empregos verdes’ no mundo.” Sobre o tema meio ambiente, sustentabilidade e energias renováveis, assinale a alternativa incorreta.

- A As florestas além de estocar carbono, regulam o clima. A floresta Amazônica por exemplo, leva umidade para outras regiões
- B No Brasil, a energia eólica e a solar são algumas opções de energias renováveis
- C Desenvolvimento sustentável é aquele que atende às necessidades do presente sem comprometer as gerações futuras. Alia o crescimento econômico com a preservação ambiental
- D A energia hidrelétrica não é considerada como energia renovável

33. Leia a definição de Inteligência Artificial: “IA que significa _____, refere-se a sistemas ou máquinas que imitam a inteligência _____ para executar tarefas. A tecnologia IA está melhorando o desempenho e a produtividade das empresas, _____ processos ou tarefas.” Assinale a alternativa que preencha correta e respectivamente as lacunas.

- A inteligência artificial / robótica / automatizando
- B inteligência artificial / humana / automatizando
- C inteligência alternativa / humana / dificultando
- D algoritmo / artificial / automatizando

Conhecimentos sobre Fortaleza-CE

Texto V (Questão 34)

A expansão urbana de Fortaleza: a cidade de costas para o mar

Do ponto de vista histórico, Fortaleza teve seu crescimento urbano voltado em direção ao sertão. A faixa litorânea fortalezense passa, dessa forma, alguns séculos sendo ignorada pelos seus cidadãos. O mar, ponto de início da colonização cearense, vem configurar-se nos primórdios do crescimento da cidade, como um local ad fora de Fortaleza.

Fábio de Oliveira Matos

34. Julgue as alternativas a seguir:

- I. De ter sido povoada por uma elite oriunda do interior, a praia ficou esquecida sendo utilizada apenas para o abastecimento do comércio com produtos de outros países vindo dos vapores.
- II. Da principal atividade econômica no século XVIII ser a pecuária e a agricultura que não era utilizada nas proximidades da praia.
- III. Da praia ser considerada imprópria para banho por ter muitos resíduos poluentes advindos dos

vapores que vinham trazer cargas de matéria-prima para as indústrias.

IV. Da diversidade de pessoas oriundas do interior e de outros estados que criou uma identidade cultural com o campo, não abrindo espaço para uma relação mais social com o mar.

V. Da urbanização de Fortaleza a qual não permitia que o mar fosse um agregado mais próximo, pois a forte influência inglesa e francesa na capital deixava o mar esquecido, distanciando-se dos nativos.

Estão corretas:

- A I, II e IV.
- B III, IV e V.
- C I, II e III.
- D II, IV e V.

35. Em 1973, José Carlos Matos fundou, em Fortaleza, um grupo teatral com forte envolvimento político, de resistência, com atuação significativa em relação aos movimentos sociais urbanos, de periferia, objetivando outros frutos que não apenas os estéticos ou o simples divertimento. Esse grupo foi denominado de

- A Grupo Teatral Engajado.
- B Coletivo Teatral Amador.
- C Grupo Independente de Teatro Profissional.
- D Grupo Independente de Teatro Amador.

36. No que se refere a localização do município de Fortaleza no estado do Ceará, é CORRETO afirmar:

- A encontra-se situado na porção Norte do estado do Ceará.
- B encontra-se situado na porção extremo Oeste do estado do Ceará.
- C encontra-se situado na porção extremo Sul do estado do Ceará.
- D encontra-se situado na porção extremo Leste do estado do Ceará.

37. Ao longo do século XX, Fortaleza passou por duas grandes transformações urbanas, a primeira nos anos 1920 com o aformoseamento e o embelezamento da cidade, e a segunda nos anos 1970/80 em que a cidade precisava mais uma vez se modernizar agora no modelo americano de consumo. Assim, podemos considerar equipamentos urbanos culturais da cidade

- A os Shoppings Center Um e Iguatemi.

B a Universidade de Fortaleza (UNIFOR) e o Passeio Público.

C a Avenida Washington Soares e o Conjunto Habitacional Ceará.

D o Shopping Iguatemi e o Salinas.

38. Apesar da historiografia mais antiga de Fortaleza não mostrar a presença do negro no Estado, por considerar que o setor econômico da pecuária não permitia o uso de escravos por ser uma atividade ao ar livre, a própria cidade, na sua estrutura, mostra essa passagem. Sendo uma cidade de forte tradição católica no início da sua colonização, temos várias igrejas católicas que se tornaram patrimônio cultural. Temos uma igreja que foi construída no século XVIII por negros de uma Irmandade que era o mais próximo que os negros podiam chegar da Igreja Católica. Estamos nos referindo a qual Igreja?

- A Igreja do Patrocínio.
- B Igreja de São Bernardo.
- C Igreja de Nossa Senhora do Carmo.
- D Igreja do Rosário.

39. Ao longo da planície litorânea do município de Fortaleza encontram-se os setores ocupados pela planície fluviomarina com manguezais. Com relação a estes ambientes é CORRETO afirmar:

- A Tratam-se de ambientes especiais com alta vulnerabilidade à ocupação e na legislação ambiental brasileira encontram-se como ambientes a serem protegidos.
- B Estes ambientes são compostos por sedimentos antigos e possuem poucas restrições ao uso e ocupação, apresentando condições propícias à expansão urbana
- C Corresponde a um complexo florístico com predomínio de espécies caducifólias típicas da caatinga.
- D Nestes ambientes predominam as áreas quartzosas e ausência de uma cobertura vegetal, sendo que em alguns setores ocorre a vegetação herbácea de pequeno porte.

40. Sobre a estimativa da população em 2018 que foi divulgada pelo Instituto Brasileiro de Geografia e Estatística (IBGE), Fortaleza destacou-se como a 6ª Região Metropolitana (RMF) mais populosa do Brasil, com 4.074.730 milhões de habitantes. A líder da lista é São Paulo com 21.571.281 milhões. Fortaleza tem a maior Região Metropolitana do Nordeste à frente de Recife (PE) e Salvador (BA). Segundo o texto, a Cidade de Fortaleza é uma das

maiores cidades, em população, do Brasil. Neste quesito, quais fatores demográficos podem ser associados?

- A Proximidade do litoral, favorecendo o maior aproveitamento da cidade devido aos ventos e à pluviometria.
- B A forte migração do século XX, resultante principalmente da rápida urbanização e do êxodo rural.
- C Pela industrialização e a urbanização rápidas que favorecera maior número de empregos na região para populações que possuíam exclusivamente ensinos mais avançados.
- D Pela região ser uma das metrópoles mais avançadas do Planeta, sendo, assim, atraindo migrantes de vários países.

Noções de Direito Administrativo

41. O atributo do ato administrativo pelo qual se compreende a sua execução independentemente de ordem judicial denomina-se:

- A Tipicidade.
- B Legalidade.
- C Imperatividade.
- D Autoexecutoriedade.

42. A administração pública pode ratificar atos administrativos que contenham vícios sanáveis. Assinale a alternativa que apresenta um elemento convalidável do ato administrativo.

- A Sujeito.
- B Conteúdo.
- C Finalidade.
- D Fundamento.

43. O ato administrativo poderá ser invalidado se apresentar:

- A Eficiência.
- B Coerência.
- C Ilegalidade.
- D Pertinência.

44. “Considere que um servidor ocupante de cargo comissionado tenha sido exonerado a pedido, sendo posteriormente condenado à pena de destituição pela prática de falta disciplinar grave.” Na hipótese, para transformar o ato de exoneração em ato de destituição, a Administração Pública deve valer-se do instituto da

- A cassação.
- B conversão.
- C caducidade.
- D convalidação.

45. O princípio da impessoalidade proíbe que o servidor público

- A corrija as ilegalidades que identificar no exercício de suas funções ou de seus subordinados.
- B recuse o cumprimento de ordens emanadas da Administração Pública, ainda que ilegais.
- C reivindique individualmente garantias inerentes ao cargo.
- D use as prerrogativas do cargo para obter vantagens pessoais para si ou para terceiros.

46. Sobre os princípios da Administração Pública, assinale a afirmativa correta.

- A Estão previstos, em rol taxativo, na Constituição Federal de 1988.
- B Apresenta como o de maior valor o princípio da eficiência, o qual dá sentido e vigência aos demais princípios da atividade administrativa estatal.
- C Inexiste hierarquia entre o princípio da impessoalidade e o princípio da moralidade administrativa.
- D No Brasil, o reduzido número de princípios da Administração Pública é explicado em função do Estado mínimo proposto pela Constituição Federal de 1988.

47. Assinale a alternativa que indica a fonte menos relevante para o Direito Administrativo brasileiro entre as enumeradas abaixo.

- A Constituição Federal.
- B Lei ordinária.
- C Lei complementar.
- D Costume.

48. “A Administração Pública pode ser definida como o conjunto harmônico formado por entidades, órgãos e agentes públicos, destinados a exercer as atividades inerentes ao Estado e aos seus fins”. Partindo dessa premissa, é INCORRETO afirmar que:

- A A Administração Pública é a ordenação, a direção e o controle dos serviços do governo.
- B A Administração Pública é exercida no âmbito Federal, Estadual, Distrital e Municipal.

C Dependendo da sua forma de governo ou organização política, alguns países dispensam uma Administração Pública.

D A Administração Pública deve ser exercida segundo os preceitos do direito e da moral, visando ao bem comum.

49. “Em sentido _____, a Administração Pública designa os entes que exercem a atividade administrativa e, assim, compreende pessoas jurídicas, órgãos e agentes públicos incumbidos de exercer uma das funções em que se triparte a atividade estatal: a função administrativa.” Assinale a alternativa que completa corretamente a afirmativa anterior.

- A formal
- B material
- C objetivo
- D funcional

50. A atuação da Administração Pública no exercício do poder de polícia

A demanda relação de subordinação e manifesta-se na forma de medidas sancionatórias àqueles sujeitos ao regime de direito público.

B restringe-se ao âmbito interno, não alcançando terceiros sem vínculo jurídico com a Administração.

C possui como um de seus atributos a executoriedade, que assegura o cumprimento pelo particular independentemente da sua anuência.

D é sempre dotada de coercibilidade, autorizando medidas de força pela autoridade pública para sua observância.

Noções de Direito Constitucional e Direitos Humanos

51. Segundo a Constituição da República de 1988, são fundamentos da República Federativa do Brasil, EXCETO

- A os valores sociais do trabalho e da livre iniciativa.
- B a dignidade da pessoa humana.
- C o bipartidarismo.
- D a soberania.

52. Acerca dos direitos e deveres individuais e coletivos, previstos na Constituição Federal de 1988 (CF), assinale a alternativa correta.

A Todos podem reunir-se pacificamente em locais abertos ao público, desde que obtenham previamente autorização da autoridade competente.

B Não viola o texto constitucional a ordem judicial que determina escuta telefônica do réu em processo civil de reparação de danos.

C A CF veda o arbitramento de fiança para os crimes de tortura e tráfico ilícito de entorpecentes.

D Segundo o texto constitucional, o preso não pode ter acesso à identificação dos responsáveis por sua prisão ou por seu interrogatório policial.

53. São condições de elegibilidade, EXCETO:

- A O alistamento eleitoral.
- B A nacionalidade brasileira.
- C O pleno exercício dos direitos políticos.
- D Ter idade mínima de vinte e cinco anos para Presidente e Vice-Presidente da República e Senador.

54. Compete privativamente à União legislar sobre:

- A desapropriação.
- B produção e consumo.
- C proteção ao patrimônio histórico, cultural, artístico, turístico e paisagístico.
- D criação, funcionamento e processo do juizado de pequenas causas.

55. De acordo com o texto constitucional, a polícia ostensiva e a preservação da ordem pública cabem à(s)

- A polícias civis.
- B polícias penais.
- C Polícia Rodoviária Federal.
- D polícias militares.

56. João, estudioso do Direito Constitucional e da área de segurança pública, deparou-se com a existência de zonas de possível conflito na atuação da polícia federal e das polícias civis. Ao fim de suas reflexões, concluiu, corretamente, que, de acordo com a sistemática constitucional:

- A ambas as polícias possuem competência concorrente na apuração de infrações penais, distinguindo-se apenas em relação ao ente federativo mantenedor;
- B as atribuições da polícia federal estão previstas, de maneira exaustiva, na ordem constitucional, não podendo ser ampliadas pela lei;
- C à polícia federal compete apurar as infrações penais praticadas em detrimento das sociedades de economia mista da União;

D à polícia federal compete apurar as infrações penais praticadas em detrimento da ordem social.

57. Conforme estabelecido pela Constituição da República Federativa do Brasil, no que diz respeito à política urbana,

A as desapropriações de imóveis urbanos serão feitas com posterior e justa indenização em títulos.

B o plano diretor, aprovado pela Câmara Municipal, é obrigatório para cidades com mais de vinte mil habitantes.

C a propriedade urbana cumpre sua função social quando atende às exigências de ordenação da cidade, independentemente do plano diretor.

D o título de domínio e a concessão de uso serão conferidos ao homem e à mulher, condicionados ao estado civil.

58. Nos termos da Constituição Federal, assinale a alternativa INCORRETA.

A A família, base da sociedade, tem especial proteção do Estado.

B O casamento religioso não tem efeito civil, nos termos da lei.

C Os direitos e deveres referentes à sociedade conjugal são exercidos igualmente pelo homem e pela mulher.

D O casamento civil pode ser dissolvido pelo divórcio.

59. Com base na evolução dos direitos humanos em gerações, é CORRETO afirmar que o direito à moradia é considerado direito de:

A Segunda geração.

B Primeira geração.

C Quarta geração.

D Terceira geração.

60. Assinale a alternativa correta com relação ao conceito de direitos humanos.

A Direitos humanos é uma forma sintética de se referir a direitos fundamentais da pessoa humana, aqueles que são essenciais à pessoa humana, que precisa ser respeitada pela dignidade que lhe é inerente.

B Direitos humanos são aqueles que estão previstos de forma expressa em uma Constituição e que se referem somente a direitos das pessoas que respondem a um inquérito ou a um processo penal.

C Como os direitos humanos são inerentes à natureza humana, somente derivam do espírito humano e não devem ser positivados nas leis.

D No âmbito da filosofia, a expressão direitos humanos significa a independência do ser humano, tratando exclusivamente do direito de liberdade.

Noções de Direito Penal e Processual Penal

61. Com relação aos crimes praticados contra a Administração Pública, assinale a alternativa correta.

A Desobedecer a ordem legal de funcionário público, em tese, caracteriza o crime de desacato, punido com pena de detenção.

B Aquele que exerce função pública de forma transitória e sem remuneração não será considerado funcionário público para efeitos penais.

C A oposição passiva à execução de ato legal praticado por funcionário público não caracteriza o crime de resistência.

D Na advocacia administrativa, o funcionário público patrocina assuntos privados perante a Administração Pública, sempre para satisfazer interesse próprio e ilícito, sujeitando-se à pena de reclusão.

62. Configura o crime de falsidade ideológica:

A atribuir-se, ou atribuir a terceiro, falsa identidade para obter vantagem, em proveito próprio ou alheio, ou para causar dano a outrem.

B falsificar, no todo ou em parte, documento público, ou alterar documento público verdadeiro.

C omitir, em documento público ou particular, declaração que dele devia constar, ou nele inserir ou fazer inserir declaração falsa ou diversa da que devia ser escrita, com o fim de prejudicar direito, criar obrigação ou alterar a verdade sobre fato juridicamente relevante.

D utilizar ou divulgar, indevidamente, com o fim de beneficiar a si ou a outrem, ou de comprometer a credibilidade do certame, conteúdo sigiloso de concurso público.

63. Um adolescente com doze anos de idade foi abusado sexualmente por Almir, indivíduo de sua própria família e maior de idade, tendo sido praticados diversos atos libidinosos contra ele. Nessa situação hipotética, Almir responderá por crime de

A estupro simples.

B abuso sexual.

C corrupção de menores.

D estupro de vulnerável.

64. Não há crime sem

- A dolo.
- B conduta.
- C resultado naturalístico.
- D imprudência.

65. Caracteriza feminicídio o crime cometido:

- A contra a mulher, por razões da condição de sexo feminino.
- B contra a mulher, independente da motivação.
- C contra a mulher, desde que não seja no ambiente doméstico.
- D contra a mulher, se o autor for seu companheiro ou marido.

66. No que se refere ao inquérito policial, assinale a opção correta.

- A O inquérito policial é nulo se não observar os princípios do contraditório e da ampla defesa.
- B A característica pública das investigações auxilia na apuração dos fatos e na identificação dos culpados.
- C O delegado pode arquivar o inquérito quando verificar que o fato criminoso não ocorreu.
- D O inquérito é procedimento dispensável quando o titular da ação penal tiver informações suficientes para propor a ação.

67. De modo geral, se o indiciado tiver sido preso em flagrante, ou estiver preso preventivamente, o inquérito deverá terminar no prazo de

- A 10 dias.
- B 90 dias.
- C 30 dias.
- D 60 dias.

68. A Guarda Municipal do Município Alfa recebeu denúncia de que determinada escola municipal acabara de ser invadida por indivíduos encapuzados que, em ação rápida e organizada, depredaram bens móveis, fizeram inscrições de cunho nazista nas dependências da unidade de ensino e furtaram diversos equipamentos eletrônicos. Considerando a preservação do local do crime e meios de prova, nos moldes do Código de Processo Penal, é correto afirmar que:

- A Nas infrações que deixam vestígios, a confissão do acusado dispensa a necessidade de exame de corpo de delito.

B A remoção de vestígios no local de crime, antes de liberada pelo perito responsável, constitui mera infração administrativa.

C Denomina-se fixação o ato de evitar que se altere o estado das coisas, devendo-se isolar e preservar o ambiente da investigação.

D O agente público deve preservar o local do incidente, sendo este procedimento o início da cadeia de custódia de vestígios do crime.

69. Acerca do Exame de corpo de delito e perícias em geral, assinale a alternativa correta.

A Os exames de corpo de delito somente poderão se realizados em dias úteis.

B Não sendo possível realizar o exame de corpo de delito, por haverem desaparecido os vestígios, tal prova poderá ser suprida pela prova testemunhal.

C A confissão do acusado é suficiente para a comprovação das infrações penais que deixam vestígios.

D As perícias em geral serão, em regra, realizadas por peritos oficiais, portadores de diploma de curso superior, não cabendo às partes formularem quesitos ou indicar assistente técnico.

70. Acerca da prisão em flagrante, assinale a afirmativa correta.

A O juiz deverá relaxar a prisão se houver possibilidade de impor medida cautelar alternativa ao indiciado.

B Qualquer pessoa tem o dever de prender alguém que seja surpreendido em flagrante delito, salvo se isso implicar risco desproporcional para si ou para terceiros.

C É lícito adentrar uma casa sem o consentimento de seus moradores, em caso de flagrante delito.

D É reservado ao juiz o poder de arbitrar fiança para a soltura de pessoa presa em flagrante.

Legislação Extravagante

71. Conforme a Lei Orgânica do Município de Fortaleza, compete ao município, exceto:

A instituir e arrecadar os tributos de sua competência, bem como aplicar suas rendas

B criar, organizar e suprimir distritos, observadas as legislações federal e estadual

C manter, com a cooperação técnica e financeira da União e do Estado, programas de educação pré-escolar e de ensino fundamental

D legislar sobre assuntos de interesse nacional

72. De acordo com a Lei Orgânica do Município de Fortaleza, são estáveis, após _____ de efetivo exercício, os servidores nomeados em virtude de aprovação em concurso público. Qual alternativa completa corretamente a lacuna anterior?

- A 6 (seis) meses
- B 2 (dois) anos
- C 3 (três) anos
- D 5 (cinco) anos

73. De acordo com o Estatuto dos Servidores do Município de Fortaleza, é proibido ao servidor

- A cometer a outro servidor atribuições estranhas às do cargo que ocupa, em quaisquer hipóteses.
- B retirar qualquer documento ou objeto da repartição, ainda que com prévia anuência de qualquer autoridade.
- C exercer comércio ou participar de sociedade comercial, exceto como acionista, cotista ou mandatário.
- D filiar-se à associação profissional ou sindical, ou a partido político.

74. Nos termos da Lei Maria da Penha, a conduta de impedir a mulher de usar qualquer método contraceptivo é considerada uma forma de violência

- A física.
- B sexual.
- C patrimonial.
- D moral.

75. Se o crime de tráfico de drogas do artigo 33, caput da Lei 11.343/06 for praticado com envolvimento de criança ou adolescente, o autor do crime:

- A responderá também pelo crime de rapto consensual.
- B responderá também pelo crime de furto.
- C terá sua pena aumentada.
- D terá sua pena diminuída.

76. A Lei nº 7.716, de 5 de janeiro de 1989, define os crimes resultantes de preconceito de raça ou de cor. Está previsto, como efeito da condenação na prática dos crimes daquela Lei a perda do cargo ou função pública, sendo que os efeitos da perda do cargo ou função pública

- A não são automáticos, tampouco necessita que seja caracterizada a condenação por dolo ou culpa, sendo desnecessário serem declarados na sentença.

B são automáticos, basta ter sido caracterizada a condenação por dolo ou culpa, sem a necessidade de serem declarados na sentença.

C são automáticos, ainda que não motivadamente declarados na sentença.

D não são automáticos, devendo ser motivadamente declarados na sentença.

77. O Estatuto da Criança e do Adolescente (ECA), sancionado em 13 de julho de 1990, é o principal instrumento normativo do Brasil sobre os direitos da criança e do adolescente. De acordo com a Lei 8.069/90, que dispõe sobre a proteção integral à criança e ao adolescente, assinale a afirmativa correta.

- A Considera-se adolescente, para os efeitos da lei, a pessoa entre treze e dezoito anos de idade.
- B Considera-se criança, para os efeitos da lei, a pessoa até treze anos de idade incompletos.
- C Considera-se adolescente, para os efeitos da lei, a pessoa entre doze e dezesseis anos de idade.
- D Considera-se criança, para os efeitos da lei, a pessoa até doze anos de idade incompletos.

78. À luz do Estatuto do desarmamento, o registro de arma de fogo no órgão competente é:

- A Obrigatório.
- B Dispensado.
- C Optativo.
- D Facultativo.

79. O CTB define trânsito como:

- A parte da via, devidamente, sinalizada e protegida, destinada ao uso de pedestres durante a travessia da mesma.
- B movimento de inversão total de sentido da direção original de veículos.
- C passagem de um veículo de uma faixa demarcada para outra.
- D movimentação e imobilização de veículos, pessoas e animais nas vias terrestres.

80. Nos termos da Lei federal nº 13.022, de 08 de agosto de 2014 (Estatuto Geral das Guardas Civis Municipais), quais destes não representam requisitos básicos para investidura em cargo público na guarda municipal:

- A Nacionalidade brasileira.
- B Gozo dos direitos políticos.
- C Quitação com as obrigações militares e eleitorais.
- D Idade máxima de 65 (sessenta e cinco) anos.

Gabarito Rascunho

01	02	03	04	05	06	07	08	09	10	11	12	13	14	15	16	17	18	19	20
21	22	23	24	25	26	27	28	29	30	31	32	33	34	35	36	37	38	39	40
41	42	43	44	45	46	47	48	49	50	51	52	53	54	55	56	57	58	59	60
61	62	63	64	65	66	67	68	69	70	71	72	73	74	75	76	77	78	79	80

Gabarito

Simulado Amostra – Guarda Municipal de Fortaleza

NÍVEL MÉDIO

Guarda Municipal

01	02	03	04	05	06	07	08	09	10	11	12	13	14	15	16	17	18	19	20
D	C	B	A	D	A	B	A	A	D	D	B	D	B	C	C	D	B	C	B
21	22	23	24	25	26	27	28	29	30	31	32	33	34	35	36	37	38	39	40
A	A	D	A	D	A	C	D	C	D	B	D	B	A	D	A	A	D	A	B
41	42	43	44	45	46	47	48	49	50	51	52	53	54	55	56	57	58	59	60
D	A	C	B	D	C	D	C	A	C	C	C	D	A	D	D	B	B	A	A
61	62	63	64	65	66	67	68	69	70	71	72	73	74	75	76	77	78	79	80
C	C	D	B	A	D	A	D	B	C	D	C	C	B	C	D	D	A	D	D