

SIMULADO AMOSTRA

POLÍCIA MILITAR DA BAHIA

Oficial PM



PROVA OBJETIVA

Língua Portuguesa

Texto I (Questões 01 a 03)

[Vida a compartilhar]

Um jovem amigo meu é uma pessoa exasperada e deprimida. Na semana passada, ele foi atraído por uma história edificante. Lima escola americana dedicara um anfiteatro a uma professora de escola fundamental! que, depois de uma longa carreira de ensino, foi paralisada por uma distrofia muscular, e seguiu ensinando. Quando perdeu a voz, passou a ensinar surdos-mudos. Na reportagem, ela estranhava a atenção e os elogios: era uma mulher em paz consigo mesma e com o mundo, sem furores caritativos ou vocações martirológicas. Sua vida parecia simplesmente normal.

Meu jovem amigo comentou que, se estivesse no lugar dela, já teria acabado com sua própria vida. Essa ideia, concordei, passaria por qualquer cabeça. Mas por que a professora não foi por esse caminho? O insuportável numa doença como essa, afirmou então meu interlocutor, são os limites, as impotências.

Observei-lhe então que há uma infinidade de coisas que não conseguimos fazer. Afinal, não sei voar, nem ficar por respirar mais que dois minutos. Com paciência condescendente, meu amigo explicou que essas são coisas que ninguém, ou quase ninguém, consegue fazer. O que dói, acrescentou, é não conseguir fazer as coisas que os outros conseguem. E declarou que, se tivesse uma invalidez grave, talvez pudesse seguir vivendo, mas só entre pessoas tão inválidas quanto ele. Conclusão da conversa: o problema não é a invalidez, o problema são os outros. Melhor dizendo, a necessidade de se comparar aos outros.

De todo modo, ficamos sem apurar que tipo de energia animava aquela prejudicada professora, excepcionalmente apta e disposta a só compartilhar o que tinha de positivo.

Contardo Calligaris – Adaptado

01. No contexto do 1º parágrafo, ao afirmar que a professora era uma mulher em paz consigo mesma e com o mundo, sem furores caritativos ou vocações martirológicas, o autor faz-nos depreender que

A a paz mais profunda resulta da combinação harmoniosa entre o gesto caridoso e o sofrimento recompensado.

B há gestos virtuosos que nascem mais de espíritos alterados do que de um simples e sincero desprendimento pessoal.

C tanto a caridade exacerbada quanto a inclinação para o sofrimento são traços de quem não se importa consigo mesmo.

D quanto maior o sofrimento trazido por um ato de abnegação, tanto maior será a virtude de quem se sacrificou.

E a ânsia de parecer caridoso faz com que a vocação para o martírio surja como um defeito causado por essa ansiedade.

02. No 3º parágrafo, ao considerar que todos nós temos limites, o autor se deparou com a seguinte posição defendida pelo jovem amigo:

A os males que acometem as outras pessoas passam a ser nossos, quando não os avaliamos com lucidez crítica.

B todo sofrimento compartilhado tende a ir diminuindo na medida em que as pessoas se deem conta de sua inevitabilidade.

C as pessoas potenciam nossos males, quando não buscam entender a injustiça que se entranha na condenação que nos aflige.

D a ninguém deve animar a esperança de que sua invalidez se apequene diante da invalidez de muitos outros.

E os males que nos afligem podem tornar-se suportáveis quando na mesma medida afligirem os nossos semelhantes.

03. A história edificante, referida no primeiro parágrafo, provocou no jovem amigo do autor uma

A avaliação pessoal, na qual reconheceu sua incapacidade para superar um limite seu por conta de decisões altruístas.

B exasperação depressiva, por conta do mau exemplo que ele viu na conduta moral da professora.

C reação positiva, de vez que reconheceu na atitude da professora um exemplo superior de resiliência.

D resposta compassiva, quando se sentiu um ardoroso admirador de quem se dispõe a sofrer pelos outros.

E censura discreta, ao considerar que a escolha da professora podia ser interpretada como um martírio caridoso.

04. Assinale a alternativa cuja palavra seja paroxítona:

- A Tópico.
- B Próxima.
- C Além.
- D Fácil.
- E Específico.

05. Assinale a alternativa que apresenta uma palavra com a mesma regra de acentuação da palavra “árabe”:

- A Líquido.
- B Etéreo.
- C Cônsul.
- D Órfão.
- E Dócil.

06. Quanto às classes de palavras, assinalar a alternativa cujo termo sublinhado é uma conjunção

- A Saíram no tempo frio, mas não levaram o casaco.
- B Patrões sempre precisam de funcionários habilidosos.
- C De vez em quando, ainda sonho com ela.
- D O livro de Esperanto continua sobre a mesa.
- E Muitos alunos gostam de escrever histórias.

07. A oração adversativa abaixo sublinhada que estabelece entre os segmentos indicados uma relação de real oposição é:

- A Sejam numerosas as tuas relações, mas os teus conselheiros, um entre mil;
- B Não é sábio quem sabe muitas coisas, mas quem sabe coisas úteis;
- C A beleza é uma letra que se vence à vista, mas a sabedoria tem o seu vencimento a prazo;
- D Muitos recebem conselhos, mas só os sábios os aproveitam;
- E Os sábios descreem, mas os tolos creem.

08. A crase ocorre quando a preposição "a" se funde com o artigo definido feminino "a" ou "as". Indique a alternativa com uso incorreto de crase.

- A Ela está à espera do resultado.
- B Eles foram à escola para a reunião.
- C Vou à festa de aniversário da Maria.
- D Sairei de casa às 12h30.
- E Sabrina adquiriu um carro à diesel.

09. Assinale a alternativa em que o uso da preposição na regência verbal está correto.

- A Esqueci do documento em casa.
- B Prefiro chá a café.
- C Ele assistiu o filme ontem.
- D A gerente se referiu os problemas da equipe.
- E Maria obedece as normas com rigor.

10. Qual das alternativas posteriores não apresenta nenhum erro de regência verbal.

- A Marcela namora com o João.
- B Adverti o diretor que os funcionários entrariam em greve.
- C Prefiro doce do que salgado.
- D Depois de tantas mentiras, seu discurso não agrada ao país.
- E Procederemos a destruição das provas adulteradas.

11. Analise as sentenças a seguir e assinale a alternativa em que há desvio de concordância verbal ou nominal.

- A Tanto criança quanto adulto precisam de alimentação saudável.
- B Na segunda-feira de carnaval, algumas milhares de pessoas foram às ruas.
- C Os povos originários devem ser protegidos e respeitados por todos.
- D Foram ao espetáculo a garota e sua mãe.
- E Três cães e uma galinha foram encontrados nesta manhã em situação de maus-tratos.

12. Assinale a frase em que os termos sublinhados são antônimos.

- A Por excesso de sabedoria, o sábio torna-se toló.
- B Tudo acontece por causa do conflito e da necessidade.
- C Quem tem senso não depende de incenso.
- D Não espereis moralidade de quem não tem pontualidade.
- E Quem olha para trás não olha para a frente.

Texto II (Questões 13 a 19)

Nos últimos anos, apesar de muitas empresas terem se destacado na promoção da sustentabilidade por meio de medidas e ações como a redução de pegadas de carbono e da utilização de água, relativamente poucas fazem dessa sustentabilidade uma parte essencial de suas marcas.

As empresas que o fazem, todavia, encontram um público consumidor ávido por ajudar a promover a conservação ambiental — especialmente no Brasil. Uma pesquisa de consumo mostrou que até 75% dos

brasileiros estão dispostos a pagar mais por variedades sustentáveis.

O poder da onda verde e o consumo consciente manifestam-se também no crescimento de novas marcas que fazem uso de materiais naturais ou com menor impacto sobre o planeta. Além disso, mesmo marcas já estabelecidas podem usar a sustentabilidade para reacenderem a sua relevância, desde que seus produtos e serviços sejam verdadeiramente alinhados a estratégias ecológicas.

Segundo um estudo de uma consultoria, as principais barreiras para a compra dos chamados “produtos verdes” são: consciência de que o produto/serviço existe, disponibilidade, preço, conveniência, qualidade, confiança, interesse e fatores sociais — como relutância para mudar hábitos já estabelecidos, por exemplo.

Embora rever hábitos antigos seja difícil, de acordo com a consultoria, o caminho do sucesso é esclarecer para o consumidor que escolhas ambientalmente corretas também podem atender a suas necessidades.

www.umsoplaneta.globo.com – Adaptado

13. Assinale a opção que apresenta uma proposta de reescrita que é gramaticalmente correta e preserva o sentido do seguinte trecho do primeiro parágrafo do texto II: “apesar de muitas empresas terem se destacado”.

- A a fim de que muitas empresas se destaquem
- B caso muitas empresas tivessem destacado-se
- C à medida que muitas empresas foram se destacando
- D embora muitas empresas se tenham destacado
- E se muitas empresas forem-se destacando

14. No texto II, o emprego do sinal de dois-pontos no quarto parágrafo tem a finalidade de

- A anunciar uma retificação acerca do trecho antecedente.
- B desfazer uma ambiguidade.
- C marcar o início de um diálogo.
- D introduzir uma enumeração.
- E iniciar uma divagação.

15. No primeiro período do segundo parágrafo do texto II, o vocábulo “ávido” está empregado no sentido de

- A ocioso.
- B desejoso.
- C austero.

- D apático.
- E altivo.

16. Conclui-se das ideias expressas no texto II que seu objetivo geral é

- A refutar escolhas ambientalmente corretas.
- B incentivar o consumismo e a alta produção industrial.
- C apresentar informações sobre consumo consciente e sustentabilidade.
- D contestar os dados obtidos por uma pesquisa.
- E mostrar maneiras de reduzir o consumo de água.

17. No último parágrafo do texto II, a palavra “esclarecer” está empregada como sinônimo de

- A retribuir.
- B convencer.
- C lecionar.
- D solucionar.
- E explicitar.

18. Considerando-se as características do texto II, é correto classificá-lo, quanto ao gênero textual, como

- A anúncio publicitário.
- B entrevista.
- C notícia.
- D crônica.
- E regulamento.

19. No primeiro parágrafo do texto II, após o termo “poucas”, está subentendida a palavra

- A empresas.
- B medidas.
- C ações.
- D pegadas.
- E marcas.

20. Sobre as normas de Correspondência Oficial no padrão ofício, assinale a alternativa CORRETA.

- A Ao elaborar uma correspondência oficial a ser dirigida à um Deputado Federal utiliza-se o vocativo “Excelentíssimo Senhor”.
- B A utilização do pronome “Vossa Excelência” é padrão em qualquer comunicação com autoridades da Administração Direta da União.
- C O fecho para comunicações no Padrão Ofício para autoridades de mesma hierarquia é “Respeitosamente”.
- D A pessoalidade é um atributo indispensável na redação oficial.

E Ao elaborar uma correspondência oficial o texto deve ser coeso, coerente e objetivo.

Língua Inglesa

Texto III (Questões 21 a 25)

Phishing

Imagine that you get an email one morning. It appears to be from your bank. The email warns that someone broke into your account. It says that you need to sign in to check some things. You click the link in the email. It takes you to a site that looks very much like your bank's. You enter your username and password. You submit the form. You've just been phished!

Phishing is a type of attack that happens over the Internet. Users receive an email or text message that seems like it came from a trusted source. These users are being deceived. They are interacting with dangerous hackers. The attackers copy trusted companies. They send users to web pages that look like the ones we use everyday. When users login or provide sensitive information, the attackers steal this data.

Attackers want your data for many reasons. They may use your data to commit identity fraud. This is when they use your identity to buy something with your credit. Then they receive the goods and you receive the bill. Or they may want your password to take over a computer network. They may want access to private emails. They may want customer records. They gain access by tricking people into giving them their login info.

Some phishing attacks are targeted. A targeted phishing attack is called a spear phishing attack. These attacks are dangerous because they are convincing. The attacker may know the target's name, address, or job title. They may have gathered info from social networks, like the names of friends or family. The attackers may use this personal information to craft a believable email. The target will be tricked into clicking a link. The link will send them to a phony website. This site will look familiar, but it will be a spoofed site built to steal data. Any data that the target submits will go to the hacker.

Phishing attacks are dangerous, but you can spot them if you pay attention. One thing to watch is your address bar in your browser. Attackers use domains that look like the ones that we trust, but they are not the same. For example, in 2016 staffers from Hillary Clinton's campaign were spear phished. The attackers used the domain accounts-google.com. That domain looks like google.com, but it isn't the same.

When logging into google, you should always do it from google.com. Likewise, when logging into any account, make sure the address matches what you expect. If you are unsure, search for the site and login from the root domain.

An even better way to secure your account against phishing attacks is to use 2FA: two factor authentication. 2FA means that your account is secured with two keys. The first is your password. The second key is a random code that changes every few minutes. This code may be generated by a 2FA app, like Authy. Or it can be sent to your cell phone on request. If you activate 2FA on your accounts, an attacker will not be able to get in even with your password.

Phishing attacks are scary and common. The reason why they are common is that they are effective. Many people accept appearances without suspicion. Browsing the Internet safely requires a healthy amount of suspicion. Not everything is what it appears. Nobody is trying to give you free money. Don't trust; verify.

Internet

21. Which alternative best describes the main idea of the third paragraph?

- A To steal private communication or records
- B To describe the reasons for phishing attacks
- C To explain how phishing attacks are executed
- D To teach readers how to defend against phishing attacks
- E To compare and contrast phishing and spear phishing

22. What is the difference between a phishing and spear phishing attack?

- A A spear phishing attack is scary and unusual.
- B A spear phishing attack involves theft or identity fraud and phishing does not.
- C A spear phishing attack is targeted while phishing is random.
- D A phishing attack is illegal while spear phishing is legal.
- E A phishing attack is more convincing than a spear phishing attack.

23. Read the article and decide if the statements below are true (T) or false (F).

- () A phishing attack is to trick someone into giving away sensitive data.
- () To commit identity fraud is a motive for phishing and it is mentioned in the text.

- () 2FA can protect users from phishing attacks by having two keys to login.
() The domain accounts-google.com is used by attackers to phish.

Choose the alternative which presents the correct sequence, from top to bottom.

- A T • T • F • T
B T • F • T • T
C T • F • F • T
D F • T • T • F
E F • T • F • T

24. The words sensitive information in the second paragraph, is closest in meaning to:

- A protected data.
B unprotected data.
C public information.
D authorized information.
E unprotected information.

25. In the sentence “This site will look familiar, but it will be a spoofed site built to steal data.”, the correct definition for the word spoofed is in which alternative?

- A to play a trick on.
B to fool by a hoax.
C to make a parody.
D to mock an imitation of someone or something.
E to trick by interrupting or otherwise corrupting data in order to avoid detection.

Ciências Humanas

26. Leia o trecho: foi uma revolta provincial que ocorreu em Salvador, entre novembro de 1837 e março de 1838. Essa revolta foi conduzida pelas classes médias soteropolitanas insatisfeitas com o governo do Rio de Janeiro, sobretudo em virtude do enfraquecimento da pauta federalista. Sobre qual momento histórico da Bahia o trecho faz referência:

- A Revolta dos Malês.
B Guerra dos Canudos.
C Conjuração Baiana.
D Sabinada.
E Invasão Holandesa.

27. Sobre a história da Bahia, assinale a alternativa correta:

- A Salvador, fundada em 1549, foi a segunda capital do Brasil.
B O estado foi palco de conflitos históricos importantes, entre eles a revolta dos malês e a revolta de Tiradentes.
C Em 1634 foi iniciada a colonização portuguesa da Bahia.
D Em 1624, no contexto da Guerra dos Oitenta Anos e União Ibérica, Salvador foi invadida pelos neerlandeses e reconquistada por tropas luso-espanholas no ano seguinte.
E Em 1963, a capital brasileira foi transferida de Salvador para o Rio de Janeiro.

28. Marque o que não se comprova sobre o Estado da Bahia.

- A Está localizado na Região Nordeste do Brasil.
B O estado da Bahia ocupa o oitavo lugar em produção agrícola e mineral da região Nordeste.
C Na Bahia, há dois tipos climáticos importantes: tropical e semiárido.
D A geografia do estado é caracterizada pelas planícies e depressões.
E A Bahia representa a principal economia do Nordeste.

29. Assinale a alternativa incorreta sobre a Conjuração Baiana.

- A A Conjuração Baiana foi bastante ampla e popular entre as rebeliões coloniais.
B A Conjuração Baiana foi antagônica aos ideais iluministas que eram propagados naquele período.
C Dela participaram padres, profissionais liberais (como médicos e advogados), alguns membros da elite intelectual e, sobretudo, pessoas dos grupos sociais mais pobres, como sapateiros, ex-escravos, soldados e vários alfaiates.
D Esse clima favoreceu a propagação dos ideais iluministas de liberdade, igualdade e fraternidade, divulgados na Bahia por membros da maçonaria (associação civil não religiosa que cresceu na Europa do século XVIII e logo foi difundida no Brasil).
E Em 12 de agosto de 1798 papéis foram pregados nas vias públicas de Salvador e falavam em liberdade e República.

30. As afirmativas a seguir apresentam corretamente aspectos das Guerras de Canudos, à exceção de uma. Assinale-a.

- A Antônio Conselheiro expressava a situação de vulnerabilidade da população.

B Os latifundiários foram contrários à organização, receando que ela ocupasse terras improdutivas, como Belo Monte.

C A comunidade de Canudos demandava a independência do governo da Bahia em relação ao restante do Brasil.

D A Igreja católica se opôs ao movimento messiânico, temendo a perda de fiéis, e atuou para contê-lo.

E O presidente Prudente de Moraes interpretou o movimento como uma insurreição e respondeu com ações militares.

31. São características da empresa agrícola montada no Brasil Colônia:

A Latifúndio, policultura e trabalho livre.

B Latifúndio, monocultura e trabalho escravo.

C Latifúndio, monocultura e trabalho assalariado.

D Minifúndio, monocultura e trabalho escravo.

E Minifúndio, policultura e trabalho assalariado.

32. O governo Juscelino Kubitschek foi marcado por reformas e iniciativas que fizeram a economia do país crescer durante os anos em que governou, entre 1956 a 1961. Sobre esta política econômica podemos afirmar que:

A foi uma economia sem diversificar os produtos brasileiros.

B foi uma política de manutenção do sistema agrário-exportador.

C foi uma economia baseada na dolarização da moeda brasileira.

D foi uma política nacional-desenvolvimentista.

E foi uma política centralizadora e protecionista.

33. Durante grande parte da Idade Média preponderou na Europa Ocidental um modo de produção econômico, político e social baseado na posse da terra. Assinale a alternativa que identifica corretamente esse modo de produção e uma de suas características.

A Feudalismo: Escravidão.

B Feudalismo: Servidão.

C Capitalismo: Escravidão.

D Capitalismo: Trabalho assalariado.

E Socialismo: Propriedade coletiva dos meios de produção.

34. As alianças militares criadas durante a Guerra Fria tinham como objetivo a ajuda mútua entre as nações que sofressem agressão por parte de uma força externa e a segurança de seu respectivo bloco. Nesse sentido, em 1949 foi criada a OTAN

(Organização do Atlântico Norte) pelos Estados Unidos. Em 1945, em resposta a criação da OTAN, a União Soviética firmou com os seus países de influência o

A Macarthismo

B Plano Cohen

C Plano Marshall

D Cominform

E Pacto de Varsóvia

35. Com relação às hidrelétricas, assinale a opção correta.

A Apesar de ocuparem áreas pequenas, as hidrelétricas interferem no curso dos rios.

B Nas hidrelétricas, a produção de energia pode ser controlada, apesar dos custos muito elevados.

C As hidrelétricas interferem diretamente no efeito estufa.

D Embora não emitam poluentes ou causem danos ambientais, as hidrelétricas produzem pouca energia.

E A construção de uma hidrelétrica é relativamente rápida, mas a sua durabilidade é curta.

36. As Revoluções Industriais foram períodos de grandes transformações econômicas, científicas e sociais. Sobre as características das Revoluções Industriais assinale a alternativa INCORRETA.

A as grandes inovações da Primeira Revolução Industrial foram baseadas carvão, nas máquinas a vapor e na produção industrial em larga escala, resultado na aceleração desenvolvimento econômica da Inglaterra. Contraditoriamente, no mesmo período, ampliou-se as das desigualdades sociais e aumento dos índices de degradação ambiental.

B Na Segunda Revolução Industrial, destaca-se a o desenvolvimento da indústria química e automobilística, desenvolvimento da telefonia e eletricidade, bem como a exploração de combustíveis fósseis, com destaque ao petróleo.

C Dado o crescimento exponencial do comércio e da economia, tanto na Primeira, quanto na Segunda Revolução industrial, observa-se a atuação de entidades reguladoras que impediam a atuação monopolistas Cartéis, Trustes e Holdings em todo o mundo.

D A Terceira Revolução Industrial pelo surgimento dos microcomputadores e pela internet.

E Apesar do amplo desenvolvimento econômico e técnico, as Revoluções Industriais, intensificaram formas desumanas de exploração de trabalho. No auge da Primeira Revolução Industrial, mulheres e crianças

eram submetidos as extensas cargas de trabalho, em ambiente insalubre e arriscado.

37. O IBGE pesquisa a distribuição censitária brasileira segundo a cor da pele com base no critério de autodeclaração das pessoas entrevistadas. Os dados do Censo Demográfico demonstram que essa distribuição é bastante heterogênea em termos regionais. Sobre esse tema, é correto afirmar:

A No Norte, a maioria da população é parda, o que reflete o intenso processo de miscigenação com a população indígena original.

B No Sul, os pretos participam com cerca de um quinto da população total, enquanto a participação dos pardos é de aproximadamente dois quintos.

C O critério de autoclassificação foi adotado pelo IBGE a partir do Censo Demográfico de 1991, o que reflete a redemocratização ocorrida após o fim do regime de 1964.

D A população branca tornou-se predominante no Centro-Oeste devido ao avanço da fronteira agrícola, que atraiu produtores rurais gaúchos para aquela região.

E A população preta é predominante nas regiões rurais, motivo pelo qual cerca de metade da população nordestina é classificada como preta.

38. A evolução territorial do Brasil remonta ao passado, ao início da chamada Era dos Descobrimentos, quando se impôs a partilha das terras descobertas entre as monarquias ibéricas, pioneiras nas Grandes Navegações. A partir de então, uma série de acontecimentos históricos levaram o Brasil à sua atual configuração territorial. Sobre a formação territorial do Brasil e seus resultados geográficos, assinale a alternativa correta.

A O Brasil é um país tropical, já que toda sua extensão territorial encontra-se entre os trópicos.

B Devido à sua extensão territorial, o Brasil possui oficialmente 4 fusos horários.

C A Ilha de Guajará-mirim (nome brasileiro), ou Isla Suárez (nome venezuelano), uma ilha fluvial no rio Negro, é reivindicada tanto pela Venezuela quanto pelo Brasil.

D O Brasil faz fronteira com 11 países, entre eles Argentina, França (Guiana Francesa) e Equador.

E O Tratado de Badajós, assinado em 1751, concedeu o Suriname à Holanda e o Brasil foi restituído com terras que hoje formam o Estado de Roraima.

39. A globalização é um dos termos mais frequentemente utilizados para descrever a conjuntura do sistema capitalista e sua consolidação nos dias atuais. Todas as afirmações abaixo são características da globalização, EXCETO:

A Avanços importantes proporcionados pela evolução dos meios tecnológicos, assim como uma maior difusão do conhecimento.

B Expansão das empresas multinacionais. Muitas abandonaram seus países de origem ou, apenas, expandiram suas atividades aos mais diversos locais.

C Formação de acordos locais ou blocos econômicos.

D Forte abalo nas estruturas do sistema capitalista e avanços na implantação de políticas econômicas de cunho socialista, tal como a necessidade de intervenção estatal direta na economia.

E Manifestação não linear, de forma a ser mais ou menos intensa a depender da região em que se estabelece.

40. O cerrado é um bioma brasileiro de extrema relevância, seja pela elevada biodiversidade ou pela posição geográfica estratégica no território do País. No entanto, nas últimas cinco décadas, vem passando por um processo acelerado de transformação pelas ações antrópicas, as quais geram sérios impactos de degradação ambiental desse bioma. Acerca desse assunto, é correto afirmar que as principais causas desses impactos são a

A ampliação acelerada das ferrovias e a construção de represas.

B monocultura intensiva de grãos e a pecuária extensiva de baixa tecnologia.

C ampliação das áreas protegidas e das unidades de conservação.

D produção de suínos e os assentamentos de agricultores familiares.

E regularização das reservas legais e a manutenção das áreas de preservação permanentes.

41. Considerando o impacto das políticas públicas na promoção de um equilíbrio entre o crescimento econômico, a preservação do meio ambiente e o bem-estar social, qual é o conceito que melhor descreve a estratégia de crescimento que visa atender às necessidades das gerações presentes sem comprometer a capacidade das gerações futuras de suprirem as suas próprias necessidades?

A Globalização econômica.

- B Crescimento populacional.
- C Desenvolvimento tecnológico.
- D Desenvolvimento sustentável.
- E Expansão industrial.

42. As mudanças climáticas são tema central em conferências internacionais e de grande interesse global. Diante disso, indique, entre as alternativas abaixo, qual fenômeno natural é reconhecido por aquecer as águas do Oceano Pacífico, impactando diretamente as zonas tropicais do planeta.

- A Camada de ozônio.
- B Efeito estufa.
- C Aquecimento global.
- D La Niña.
- E El Niño.

43. A Guerra da Ucrânia, iniciada em 2022, teve profundas implicações geopolíticas e econômicas globais. Qual das seguintes consequências é amplamente atribuída ao conflito?

- A A diminuição da produção mundial de petróleo, devido à destruição das principais refinarias no Oriente Médio.
- B O aumento significativo dos preços globais de grãos, especialmente trigo, devido à interrupção da exportação desses produtos pela Ucrânia.
- C A unificação da península coreana sob um único governo, como resultado de acordos de paz promovidos pela ONU.
- D A redução da influência da União Europeia nas negociações comerciais internacionais.
- E A total estabilidade do mercado de energia na Europa, devido ao aumento das importações de gás natural da Rússia.

44. O Rio Grande do Sul, desde o mês de abril de 2024, enfrenta dificuldades em função do evento natural que ocorre no estado, caracterizado por:

- A Estiagem.
- B Enchentes.
- C Terremoto.
- D Onda de calor.
- E Seca.

45. O início de 2024 foi marcado por uma epidemia que atingiu diversas regiões, que até maio já havia causado mais de 2 mil mortes em todo o Brasil. Qual foi a doença que causou essa epidemia?

- A A febre amarela.
- B A covid-19.

- C A gripe aviária.
- D A varíola dos macacos.
- E A dengue.

Matemática

46. O campeonato brasileiro é disputado por 20 times em turno e retorno, ou seja, cada equipe joga duas vezes com cada uma das demais. O número total de jogos do campeonato é igual a:

- A 380;
- B 190;
- C 19;
- D 38;
- E 400.

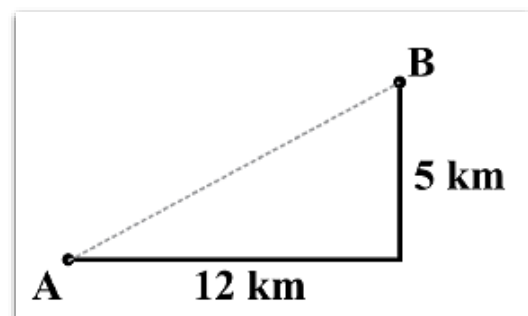
47. João Lucas fez um empréstimo de R\$ 900,00 em uma financeira, que cobra uma taxa de juros simples de 10% ao mês, e comprometeu-se a saldar a dívida em dois meses. No fim do primeiro mês, João Lucas pagou à financeira uma parcela de R\$ 500,00. Considerando esse pagamento, o valor que João ainda deve pagar ao final do segundo mês é

- A R\$ 549,00.
- B R\$ 590,00.
- C R\$ 539,00.
- D R\$ 490,00.
- E R\$ 480,00.

48. Um terreno trapezoidal tem uma frente de 20,0 m, um lado de 35,0 m e o outro 45,0 m. A área desse terreno, em m², é igual a

- A 600,00.
- B 700,00.
- C 800,00.
- D 900,00.
- E 1.600,00.

49. A figura abaixo mostra duas cidades num mapa e uma possível rota, cuja distância horizontal é 12 km, e a distância vertical é 5 km (perpendiculares).



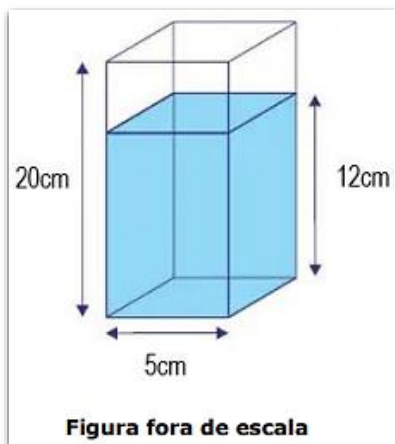
Suponha que um carro consiga percorrer 10 km com um litro de combustível e faz esse trajeto, quantos litros por viagem ele economizaria se ele pudesse tomar uma rota entre as duas cidades que fosse uma linha reta?

- A 1,7 litros.
- B 1,3 litros.
- C 0,5 litros.
- D 0,4 litros.
- E 0,2 litros.

50. Uma foto 3x4 ocupa a área de um retângulo de 3 cm de largura e 4 cm de altura. Considere que uma folha de papel no formato Carta tem dimensões 216 x 249 mm. Quantas fotos 3x4 cabem impressas nessa folha, no máximo? Todas as fotos serão impressas numa mesma direção em relação à folha.

- A 40.
- B 42.
- C 43.
- D 44.
- E 45.

51. Um objeto de decoração é um prisma reto de base quadrada, fechado e com líquido colorido em seu interior, conforme apresenta a figura abaixo. Se ele for deitado sobre uma mesa e apoiado horizontalmente sobre uma de suas faces não quadradas, a altura do líquido em seu interior passará a ser de:



- A 3 cm.
- B 3,7 cm.
- C 4 cm.
- D 4,5 cm.
- E 5 cm.

52. Se uma dívida foi paga em 18 prestações sendo a primeira parcela de R\$ 100,00, a segunda de

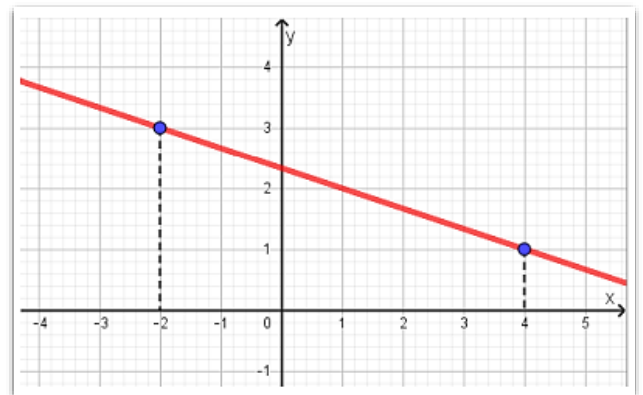
R\$ 110,00, a terceira de R\$ 120,00 e assim por diante, então o valor total da dívida era:

- A R\$ 3330,00.
- B R\$ 3700,00.
- C R\$ 1850,00.
- D R\$ 3500,00.
- E R\$ 3200,00.

53. Uma empresa de recolhimento de entulho cobra R\$ 500,00 fixos pelo transporte e mais R\$ 50,00 por dia pelo aluguel de uma caçamba com 3 m³ de capacidade. Seja d o número de dias de aluguel de uma caçamba, a função que determina o preço (P) a ser pago por um consumidor que utilizar o serviço dessa empresa é:

- A $P = 500d$
- B $P = 500 + 50d$
- C $P = 500d + 50$
- D $P = 500 + 50^d$
- E $P = 500 + d$

54. A função ilustrada no gráfico abaixo é uma função real do tipo $f(x)=ax+b$ e passa pelos pontos (-2,3) e (4,1).



Qual o valor de a?

- A $-1/3$
- B -1
- C 0
- D 1
- E $1/3$

55. Dada a função: $f(x) = x^2 + 4x - 8$, calcule $f(2)$ e assinale a alternativa correta:

- A 6
- B 8
- C 10
- D 12
- E 4

Informática

56. Qual das seguintes funcionalidades do Windows 10 permite a criação de múltiplos desktops virtuais para organizar melhor as janelas e aplicativos abertos?

- A Cortana.
- B DirectX 12.
- C Task View.
- D Microsoft Edge.
- E Windows Defender.

57. A arquitetura Cloud Computing (Computação em Nuvem) tem a seguinte característica:

- A Utiliza a tecnologia de computação off-line.
- B Utiliza a tecnologia de grandes datacenters.
- C Tem licença perpétua para sistemas operacionais e aplicativos.
- D Utiliza a tecnologia de computação centralizada.
- E É considerada pouco ágil, não sendo eficiente.

58. Qual é a principal função do correio eletrônico (e-mail) no ambiente de escritório?

- A Fazer backup de dados importantes.
- B Enviar e receber mensagens instantâneas.
- C Armazenar documentos na nuvem.
- D Editar documentos colaborativamente.
- E Trocar mensagens e arquivos entre pessoas ou grupos.

59. Considerando a edição de textos no Microsoft Word, assinale a alternativa que apresenta a função do ícone representado pela figura abaixo:



- A Mover o parágrafo para mais perto da margem.
- B Alinhar o conteúdo com a margem esquerda.
- C Mesclar células de tabelas e alinhar o conteúdo à esquerda.
- D Reduzir o número de casas de valores decimais.
- E Adicionar ou remover colunas de texto.

60. No Excel, qual é a finalidade da função PROCV?

- A Encontrar itens em uma tabela ou um intervalo por linha.
- B Calcular a média dos valores em um intervalo.
- C Contar o número de células não vazias em um intervalo.

- D Adicionar todos os valores em um intervalo de células.
- E Filtrar dados em uma tabela.

Direito

61. De acordo com a Constituição da República Federativa do Brasil de 1988, é CORRETO afirmar

- A a liberdade de associação é garantida, incluindo a possibilidade de criação de associações paramilitares.
- B é permitida a violação do domicílio de uma pessoa sem seu consentimento, em qualquer horário, por motivos de segurança pública.
- C a extradição de brasileiros natos é permitida em casos de crimes contra o sistema financeiro.
- D homens e mulheres são iguais em direitos e obrigações, nos termos da Constituição.
- E o direito de propriedade é absoluto e não permite intervenções do Estado.

62. João, após ser aprovado em um certame público, passou a ocupar um cargo público em uma instituição responsável pelo policiamento ostensivo e pela preservação da ordem pública no âmbito do Estado Alfa. Nesse cenário, considerando as disposições da Constituição Federal, é correto afirmar que João integra o (a)

- A Corpo de Bombeiro Militar.
- B Polícia Rodoviária Federal.
- C Polícia Militar.
- D Polícia Penal.
- E Polícia Civil.

63. Em conformidade com a Declaração Universal dos Direitos Humanos.

- A todo ser humano tem direito à educação, obrigatória no ensino fundamental e superior, sendo que esta última será baseada na condição social e não no mérito.
- B todo ser humano tem direito à educação, a qual será gratuita obrigatoriamente nos graus elementares, fundamentais e superiores.
- C a educação elementar não é obrigatória, sendo gratuito o ensino técnico-profissional.
- D os pais têm prioridade do direito na escolha do gênero de educação que será ministrada a seus filhos.
- E todo ser humano tem direito à educação, favorecendo a amizade apenas entre todos os grupos raciais, mas não a amizade entre todos os grupos religiosos.

64. Segundo a Convenção Americana sobre Direitos Humanos, a Corte Interamericana de Direitos Humanos é composta por

- A 3 juízes eleitos por um período de 3 anos.
- B 5 juízes eleitos por um período de 3 anos.
- C 5 juízes eleitos por um período de 5 anos.
- D 7 juízes eleitos por um período de 6 anos.
- E 7 juízes eleitos por um período de 5 anos.

65. São princípios da Administração Pública expressos no Art. 37 da Constituição Federal de 1988, EXCETO.

- A Eficiência.
- B Eficácia.
- C Impessoalidade.
- D Moralidade.
- E Legalidade.

66. Nos termos do Estatuto dos Policiais Militares do Estado da Bahia (Lei Estadual nº 7.990/2001), a pena de detenção será aplicada ao policial militar que

- A reincidir em faltas punidas com advertência.
- B cometer crime contra a administração pública.
- C revelar segredo apropriado em razão do cargo ou função.
- D integrar ou participar de formação de quadrilha.
- E praticar tráfico ilícito de entorpecentes e drogas afins.

67. Acerca da aplicação da lei penal no tempo, assinale a afirmativa correta.

- A É aplicável a teoria da ubiquidade, haja vista que se considera praticado o crime no momento da ação e do resultado.
- B É aplicável a teoria da consequência, haja vista que se considera praticado o crime no momento do resultado.
- C É aplicável a teoria da conduta ou da atividade, haja vista que se considera praticado o crime no momento da ação ou omissão.
- D É aplicável a teoria da alternatividade, haja vista que se considera praticado o crime no momento da ação ou do resultado.
- E É aplicável a teoria da paridade, haja vista que, a depender do delito, considera-se praticado o crime desde o momento da ação até a produção do resultado.

68. Caio, agente público no Estado Alfa, apropriou-se, dolosamente e em proveito próprio, de um

automóvel público de que tinha a posse em razão do cargo ocupado. O referido servidor assim agiu com o objetivo de vender o bem móvel no mercado paralelo, angariando fundos para deixar o país. Nesse cenário, considerando as disposições do Código Penal, é correto afirmar que Caio responderá pelo crime de

- A extorsão.
- B condescendência criminosa.
- C advocacia administrativa.
- D excesso de exação.
- E peculato.

69. Acerca do inquérito policial, assinale a afirmativa correta.

- A O inquérito policial não pode ser encerrado antes de esgotado o prazo legal de sua duração, salvo por solicitação de arquivamento pelo Ministério Público.
- B Nos crimes de ação penal privada, o inquérito policial pode ser instaurado mediante requisição da vítima, do Poder Judiciário e do Ministério Público.
- C O requerimento de instauração do inquérito policial deve obrigatoriamente conter a individualização do indiciado e as razões de convicção sobre a autoria delitiva.
- D Qualquer pessoa pode comunicar a ocorrência de infração penal à autoridade policial, que deverá obrigatoriamente instaurar inquérito policial.
- E Nos crimes em que a ação penal depender de representação, o inquérito policial não poderá ser iniciado sem essa providência.

70. Com base na Lei Maria da Penha, analise as assertivas abaixo, assinalando V, se verdadeiras, ou F, se falsas.

- () Poderá o juiz, quando necessário, sem prejuízo de outras medidas, determinar a separação de corpos.
- () O Ministério Público, quando não for parte no processo, não irá intervir nas causas cíveis e criminais decorrentes da violência doméstica e familiar contra a mulher.
- () Mesmo em caso de violência doméstica e familiar, não há previsão de suspensão das procações conferidas pela ofendida ao agressor.

A ordem correta de preenchimento dos parênteses, de cima para baixo, é:

- A V – V – F.
- B V – F – F.
- C V – F – V.

D F – V – V.
E F – V – F.

71. O crime de tortura é:

- A suscetível de anistia.
- B de menor potencial ofensivo.
- C imprescritível.
- D hediondo.
- E equiparado a hediondo.

72. Se o crime de tráfico de drogas do artigo 33, caput da Lei 11.343/06 for praticado com envolvimento de criança ou adolescente, o autor do crime:

- A responderá também pelo crime de rapto consensual.
- B responderá também pelo crime de furto.
- C terá sua pena aumentada.
- D terá sua pena diminuída.
- E será isento de pena.

73. Sobre a prisão em flagrante, assinale a alternativa correta, conforme o disposto no Código de Processo Penal:

- A Apenas as autoridades policiais e seus agentes podem prender quem quer que seja encontrado em flagrante delito.
- B A prisão em flagrante só pode ser efetuada quando houver ordem judicial específica, expedida previamente pela autoridade competente.
- C A comunicação da prisão em flagrante ao juiz competente deve ser feita em até 48 horas, sob pena de nulidade do ato.
- D Uma das hipóteses de prisão em flagrante ocorre quando o agente é encontrado, logo depois, com instrumentos, armas, objetos ou papeis que façam presumir ser ele o autor da infração.
- E A prisão em flagrante pode ser relaxada pelo juiz se verificar que foi ilegalmente realizada. Mas, mesmo que seja legal, não poderá ser convertida em prisão preventiva.

74. Suponha que determinado grupo de policiais militares se reuniram e, armados, agiram contra a ordem expressa recebida de superior. Nesse caso, de acordo com o Código Penal Militar (CPM), está caracterizado o crime de

- A desobediência.
- B insubmissão.
- C traição.
- D motim.
- E revolta.

75. Comete o crime de deserção o militar que

- A inicia serviço de natureza privada, quando a intenção do agente é expressamente a mobilidade profissional.
- B se ausenta, por mais de oito dias, sem licença para tanto, de onde serve ou de onde deve permanecer.
- C deixa de comparecer à unidade onde serve, sem licença, dispensa ou justa causa.
- D deixa de se apresentar à missão ou de desempenhá-la, quando lhe foi confiada.
- E deixa de se apresentar à incorporação, no prazo estipulado, quando convocado.

76. Sobre a abordagem dada à embriaguez pelo Código Penal Militar, escolha a única alternativa correta.

- A A embriaguez completa, independente de sua causa, determina a inimputabilidade penal do agente
- B A embriaguez será, dependendo de sua causa e dependendo do agente, circunstância agravante para a fixação da pena privativa de liberdade.
- C A embriaguez preordenada será circunstância agravante apenas se o agente for militar.
- D A abordagem dada à embriaguez pelo Código penal Militar é idêntica à dada pela legislação comum.
- E Um militar sai do quartel no final do expediente e, fardado, vai a um bar e se embriaga em local público. Com tal conduta, incide em crime previsto no Código Penal Militar.

77. Com base no CPPM, assinale a opção correta sobre o inquérito policial militar.

- A O inquérito policial militar é um procedimento administrativo, por isso ele não é sigiloso.
- B O encarregado do inquérito policial militar poderá manter o indiciado incomunicável por até 30 dias, se o indiciado estiver legalmente preso.
- C No inquérito policial militar, as testemunhas e o indiciado poderão ser ouvidos durante a madrugada, independentemente de urgência inadiável.
- D A testemunha poderá ser inquirida por mais de quatro horas consecutivas, não havendo necessidade do descanso de meia hora.
- E O inquérito deverá terminar dentro de 20 dias, se o indiciado estiver preso.

78. A respeito da prisão em flagrante e sua previsão no Código de Processo Penal Militar, analise as proposições a seguir:

- I. O civil não poderá prender quem for encontrado em flagrante delito.

II. Nas infrações permanentes, considera-se o agente em flagrante delito enquanto não cessar a permanência.

III. Lavrado o auto de flagrante delito, o preso será recolhido em prisão apropriada; em seguida, poderá requerer à autoridade judiciária competente o conhecimento do processo no qual é réu.

IV. Na falta ou impedimento de escrivão, para lavrar o auto, a autoridade designará qualquer pessoa idônea, que prestará o compromisso legal para essa finalidade.

Estão CORRETAS

- A I e III, apenas.
- B II e IV, apenas.
- C III e IV, apenas.
- D I, II e IV, apenas.
- E I, II, III e IV.

79. Considerando o disposto no Código Penal Militar (CPM), é INCORRETO afirmar que, em tempo de paz, consideram-se crimes militares os previstos no CPM e na legislação penal, quando praticados por.

- A militar da ativa contra militar na mesma situação.
- B militar da ativa, em lugar sujeito à administração militar, contra militar da reserva ou reformado ou contra civil.
- C civil contra militar, ainda que fora de local sujeito à administração militar.
- D militar durante o período de manobras ou exercício, contra militar da reserva ou reformado ou contra civil.
- E militar da ativa contra patrimônio sob a administração militar, ou a ordem administrativa militar.

80. O crime de desacato a superior classifica-se como:

- A propriamente militar
- B de forma vinculada
- C complexo
- D de concurso necessário
- E comum

PROVA DISCURSIVA

- A Prova Discursiva (Redação) deverá ser manuscrita, de forma legível, sendo obrigatório o uso de caneta esferográfica de tinta azul ou preta, fabricada em material transparente, e a resposta definitiva deverá ser, obrigatoriamente, transcrita pelo candidato para a Folha de Redação definitiva, não sendo permitida a interferência ou a participação de outras pessoas
- A Redação produzida pelo candidato não poderá conter menos de **20 (vinte) linhas** e nem ultrapassar o limite máximo de **30 (trinta) linhas**;
- A Prova Discursiva (Redação) será avaliada em uma escala de **zero a 100 (cem) pontos**.

Leia, com atenção, o texto a seguir:

A cena dura menos de um minuto. Conduzindo uma motocicleta, um jovem sem camisa nem capacete escapa desesperado pelas vielas de um bairro da periferia de São Paulo. Só é possível vê-lo de costas, pela câmera acoplada no peito do policial militar que, também de moto, o persegue aos gritos: "Para o barato aí!"

Mas ele prossegue até perder o controle do veículo em uma bifurcação. Antes que possa fugir, correndo a pé, ele é contido pelas pernas de outro PM. A reação do entorno é imediata – e é possível ouvir os gritos da população, distante, pedindo para que os policiais não o matem. Então, um homem de meia idade, negro, de óculos, vestindo camiseta regata, calmo, aparece no filme com um documento de identificação nas mãos. "É o RG do meu filho", diz, apontando para o chão. As pessoas ao redor seguem gritando, mas o policial tenta acalmá-las. "Aqui ninguém vai matar ninguém!"

"Num momento como esse se vê a desconfiança que as pessoas têm com a polícia", aponta o analista criminal do Fórum Brasileiro de Segurança Pública, Guaracy Mingardi. Doutor em Ciência Política pela Universidade de São Paulo (USP) e com passagem por departamentos da Polícia Civil de São Paulo, ele é um dos nomes mais respeitados do Brasil no debate sobre segurança pública. "Muitas vezes a pessoa foge dos policiais não porque está praticando um crime ou porque é procurada da Justiça, mas simplesmente por questões administrativas, como um documento vencido, por exemplo", continua ele.

É o que, de fato, acontece no fim do vídeo – com 4,6 mil visualizações e 200 comentários até a metade de março em um perfil de policiais militares no TikTok: ele tentava escapar apenas porque estava sem capacete (infração considerada "gravíssima" no Código de Trânsito Brasileiro).

Vídeos como esses pululam em redes sociais como Facebook, Instagram e TikTok, ora editados a partir das imagens registradas pelas câmeras que policiais levam acopladas no corpo, ora em cenas gravadas pelos próprios aparelhos celulares dos PMs, que depois as usam para alimentar perfis policiaiscos nas plataformas. Em ambos os casos, as publicações são ilegais. [...]

Segurança pública volta ao topo das preocupações e deve pautar eleições. Disponível em: <https://www.brasildefato.com.br>

Considerando que o fragmento de texto apresentado tem caráter meramente motivador, redija um texto dissertativo a respeito do seguinte tema: **Segurança Pública – polícia e políticas públicas.**

Rascunho

1	
2	
3	
4	
5	
6	
7	
8	
9	
10	
11	
12	
13	
14	
15	
16	
17	
18	
19	
20	
21	
22	
23	
24	
25	
26	
27	
28	
29	
30	

Texto Definitivo

1	
2	
3	
4	
5	
6	
7	
8	
9	
10	
11	
12	
13	
14	
15	
16	
17	
18	
19	
20	
21	
22	
23	
24	
25	
26	
27	
28	
29	
30	

Gabarito Rascunho

01	02	03	04	05	06	07	08	09	10	11	12	13	14	15	16	17	18	19	20
21	22	23	24	25	26	27	28	29	30	31	32	33	34	35	36	37	38	39	40
41	42	43	44	45	46	47	48	49	50	51	52	53	54	55	56	57	58	59	60
61	62	63	64	65	66	67	68	69	70	71	72	73	74	75	76	77	78	79	80

Gabarito

Simulado Amostra – Polícia Militar da Bahia

NÍVEL MÉDIO

Oficial PM

01	02	03	04	05	06	07	08	09	10	11	12	13	14	15	16	17	18	19	20
B	E	A	D	A	A	E	E	B	D	B	E	D	D	B	C	E	C	A	E
21	22	23	24	25	26	27	28	29	30	31	32	33	34	35	36	37	38	39	40
B	C	B	A	E	D	D	B	B	C	B	D	B	E	B	C	A	B	D	B
41	42	43	44	45	46	47	48	49	50	51	52	53	54	55	56	57	58	59	60
D	E	B	B	E	A	C	C	D	B	A	A	B	A	E	C	B	E	A	A
61	62	63	64	65	66	67	68	69	70	71	72	73	74	75	76	77	78	79	80
D	C	D	D	B	A	C	E	E	B	E	C	D	E	B	B	E	B	C	A

Modelo de Redação

A segurança pública é uma das questões mais urgentes e complexas enfrentadas pela sociedade brasileira contemporânea. O crescimento alarmante dos índices de criminalidade em diversas regiões do país exige uma análise criteriosa e medidas concretas para garantir a proteção dos cidadãos e a preservação da ordem social. Este é, sem dúvidas, um desafio que demanda a participação ativa de diversos setores, incluindo governo, sociedade civil e forças de segurança.

Um ponto crítico na discussão sobre segurança pública é a necessidade de uma reestruturação das políticas de prevenção e combate ao crime. A atuação repressiva das forças policiais, muitas vezes permeada por métodos violentos, tem se mostrado insuficiente e, em várias ocasiões, contraproducente. Assim, é imperativo que se priorize a inteligência policial, o treinamento contínuo dos agentes de segurança e a implementação de tecnologias avançadas que possam prevenir crimes de forma mais eficaz.

A participação da comunidade na promoção da segurança pública também não pode ser subestimada. Iniciativas de policiamento comunitário, por exemplo, têm se mostrado eficazes ao fortalecer o vínculo de confiança entre a população e as forças de segurança. Isso facilita a troca de informações e a cooperação mútua, criando um ambiente mais seguro e coeso.

Além disso, é imprescindível que o Estado invista em políticas de reintegração social para aqueles que já estiveram em conflito com a lei. O sistema prisional brasileiro, superlotado e marcado por condições sub-humanas, precisa de uma reforma urgente. A criação de programas de reabilitação e reinserção no mercado de trabalho são medidas que podem diminuir a reincidência criminal e oferecer novas perspectivas de vida para esses indivíduos.

Enfim, a segurança pública, enquanto um direito fundamental, deve ser tratada de forma holística e integrada, onde a repressão ao crime esteja acompanhada de políticas sociais eficazes e do engajamento da comunidade. Somente assim será possível construir um país onde todos possam viver com tranquilidade e dignidade. A busca por soluções para esse desafio é um imperativo moral e ético que transcende governos e gerações.